

(07) දකුණු ඉන්දියාවේ දී රචිත ශ්‍රී ලංකාව පිළිබඳ තොරතුරු ඇතුළත් ග්‍රන්ථය වන්නේ,

- 1. ශේගරාසශේකර මාලෙ
- 2. සාරජයදීපනී
- 3. යාල්පාන වෛපව මාලෙ
- 4. පදිප්රුපත්තු

(08) ප්‍රාග් ඓතිහාසික යුගයට අයත් ගල් මෙවලම් ලැබී ඇති වැල්ලේගංගොඩ ප්‍රදේශයේ ඉරණමඩු සැකැස්මට අයත් බොරළු තට්ටුව කාල නිර්ණය අනුව වසර.

- 1. අසූ දහසකි.
- 2. අනූ දහසකි.
- 3. එක්ලක්ෂ විසිපන්දහසකි.
- 4. තිස් හය දහසකි.

(09) මානව විද්‍යාඥයන්ගේ අදහස අනුව ප්‍රාග් ඓතිහාසික මානවයාගේ උපරිම ආයු කාලය,

- 1. වසර 40 - 45 වේ.
- 2. වසර 35 - 40 වේ.
- 3. වසර 30 - 35 වේ.
- 4. වසර 45 - 50 වේ.

(10) ප්‍රාග් ඓතිහාසික මානවයා වාසය කළ වෙරළාශ්‍රිත ඵලිමහන් වාසස්ථානයක් නොවන්නේ,

- 1. බුන්දල
- 2. පතිරාජවෙල
- 3. හෝර්ටන් තැන්න
- 4. මිනිහාගල්කන්ද

(11) මුල් ඓතිහාසික යුගයේ ජනාවාස ව්‍යාප්තව පැවති ප්‍රදේශ පෙන්නුම් කරන ප්‍රධාන දර්ශකය වන්නේ,

- 1. කුඩා ගම් වැව්වල ව්‍යාප්තිය
- 2. නිවාසවල නටබුන්
- 3. නටබුන් වී ගිය ගොඩනැගිලි
- 4. පැරණි වෙහෙර විහාර

(12) මහාවංශයේ සඳහන් ' වාපිගාම ' සඳහා උදාහරණයක් වූයේ,

- 1. රිදී වාපිගාම
- 2. මුතුවාපිගාම
- 3. සුමනවාපිගාම
- 4. රුවන්වාපිගාම

(13) ජනතාව විසින් අතහැර දැමූ වැව්ගම් හැඳින්වූයේ

- 1. නියම්ගම්
- 2. ඔළගම්
- 3. පට්ටනගාම
- 4. කසීකාරගාම

(14) සිය පාලන මධ්‍යස්ථානය ලෙස අනුරාධපුරය තෝරා ගෙන අනුරාධපුර නගරය විධිමත්ව ගොඩ නැගූ රාජ්‍ය පාලකයා වූයේ,

- 1. දේවානම්පියතිස්ස රජු
- 2. වසභ රජු
- 3. ධාතුසේන රජු
- 4. පණ්ඩුකාභය රජු

(15) ශ්‍රී ලංකාවේ යකඩ භාවිතා වූ බවට මුලින්ම පැහැදිලි පුරාවිද්‍යාත්මක සාධක හමුවන්නේ,

- 1. මුල් ඓතිහාසික යුගයේ දීය.
- 2. ඓතිහාසික යුගයේ දීය.
- 3. පූර්ව ඓතිහාසික යුගයේ දීය.
- 4. ප්‍රාග් ඓතිහාසික යුගයේ දීය

(16) වියළි කලාපයේ වැසියන් වැව් පද්ධතියක් හැඳින්වීමට භාවිතා කරන ලද්දේ,

- 1. වැව් ප්‍රපතනය
- 2. එල්ලංගාව
- 3. වාරි පද්ධතිය
- 4. වැව් රැස

(17) ශ්‍රී මහා බෝධීන් වහන්සේ රැගෙන සංසම්පන්නා තෙරණිය ගොඩබට වරාය වන්නේ,
1. දඹකොළපටුන 2 ගෝකණ්ණතිත්ථ 3.. සලාවත්තොට 4. හීමතිත්ථ

(18) අතීතයේ විසි වතාවක් ශ්‍රී ලංකාවෙන් චීනයට රාජ්‍ය-තාන්ත්‍රික දූත ගමන් යෙදුනේ කිනම් රජුගේ කාලයේ ද?
1. පළමුවන ගජබා රජු 2. පළමුවන උපතිස්ස රජු
3. හයවන අග්ගබෝධි රජු 4. හතරවන කාශ්‍යප රජු

(19) පැරණි කාලයේ මෙරට විවිධ කර්මාන්ත ක්ෂේත්‍රවල නියුක්ත ශිල්පීන් A තීරයේ දැක්වෙන අතර B තීරයේ එම කර්මාන්ත ක්ෂේත්‍ර දැක්වේ. A හා B ගැලපූ විට නිවැරදි පිළිතුර තෝරන්න.

A	B		
1. තුලාධාර	A ඇත් දත් කැටයම්		
2. කබර	B නූල් කැටීම		
3. දවික	C රන් කර්මාන්තය		
4. තකවය	D යකඩ වැඩ		
1. CADB	2. CDAB	3. CBAD	4. DCAB

(20) සුළඟ නිසා ඇතිවන ජල තරංග මගින් වැව් බැම්ම බාදනය වීම වැළැක්වීම සඳහා ඉදි කර ඇත්තේ,
1. වැව් බැම්ම 2. පිටවාන 3. බිසෝ කොටුව 4. රළපතාව

(21) 'සකපෝරුව' නමින් හැඳින්වෙන සරල යන්ත්‍රය භාවිතා කර ඇත්තේ කිනම් අමු ද්‍රව්‍යයක් යොදා ගෙන භාණ්ඩ නිපදවීමට ද?
1. ලී 2. මැටි 3. යකඩ 4. නූල්

(22) මෙරට ඉතිහාසයේ ප්‍රථම වරට ඔයක් හරහා අමුණක් තැන වූ පාලකයා ලෙස සැලකෙනුයේ,
1. ඉළනාග රජු 2. මහා පරාක්‍රමබාහු රජු
3. ධාතුසේන රජු 4. දෙවන අග්බෝ රජු

(23) පැරණි සමාජයේ ප්‍රභූත්වයක් හිමි කර ගැනීම සඳහා හේතු වූ වැදගත්ම සාධකය වූයේ,
1. වෙළෙඳාමෙන් ලද ධනය 2. ඉඩම් හිමිකම
3. නිෂ්පාදන අතිරික්තය සඳහා වූ හිමිකම 4. පාරම්පරික දේපල

(24) පැරණි වාස්තු විද්‍යාඥයන් උස ගොඩනැගිලි අකුණු සැර වලින් බේරා ගැනීම සඳහා භාවිතා කළ උපකරණය වන්නේ,
1. සකපෝරුව 2. මොහොල 3. එල්ලංගාව 4. වජ්‍ර වුම්බට

(25) ක්‍රි.ව.9 වන සියවසේ දී රචනා කල සෙල්ලිපියක දැක්වෙන සංකේත අකුරින් අඩසඳ ලකුණෙන් අදහස් කර ඇත්තේ,
1. පවිත්‍රත්වය 2. ඉර හඳ පවත්නා තාක් පවතින බව
3. සෞභාග්‍යය 4. ආරක්ෂාව

(26) හේන් වගා කිරීම වෙනුවෙන් අය කල " කැති අඩ " හා " කෙටු කනබ " නමැති බදු වර්ග දෙක අහෝසි කල රජතුමා වන්නේ,

- | | |
|------------------------|-------------------------------|
| 1. පළමුවන විජයබාහු රජු | 2. කීර්ති ශ්‍රී නිශංකමල්ල රජු |
| 3. හතරවන මහින්ද රජු | 4. කුටකණ්ණ අභය රජු |

(27) වළගම්බා රජු දවස ත්‍රිපිටකය ග්‍රන්ථාරූඪ කරන ලද ස්ථානය වන්නේ,

- | | |
|-------------------------|--------------------------------|
| 1. අනුරාධපුර මහා විහාරය | 2. කැරගල පද්මාවතී පිරිවෙන |
| 3. මාතලේ අළු විහාරය | 4. පොළොන්නරුවේ ලංකාතිලක විහාරය |

(28) ක්‍රි.ව. පස්වන සියවසේ දී අනුරාධපුරයේ විසූ පර්සියානු ජාතික වෙළෙඳුන් කණ්ඩායමක් ගැන සඳහන් කළ දේශාටකයා වන්නේ,

- | | |
|----------------------------|-------------------|
| 1. කොස්මොස් ඉන්ඩිකොප්ලේටස් | 2. ඉබින් ශන්රියර් |
| 3. අල් - බලසුරි | 4. මෙගස්තීනිස් |

(29) දකුණු ඉන්දියානු කුලී හේවායින්ගේ සහාය පැතු පැරණිතම ශ්‍රී ලංකික පාලකයින් දෙදෙනා වන්නේ,

1. ඉලනාග රජු හා මහා විජයබාහු රජු
2. අභයනාග රජු හා මහා විජයබාහු රජු
3. මහා විජයබාහු රජු හා වළගම්බා රජු
4. ඉලනාග රජු හා අභයනාග රජු

(30) අතීත ශ්‍රී ලංකාවේ දියුණු වෛද්‍ය තාක්ෂණයක් පැවතුණු බවට ප්‍රබල සාධකය වන්නේ,

1. වෛද්‍යවරුන් ලෙස ප්‍රකට රජවරු පිළිබඳ මූලාශ්‍රවල සඳහන් වීම
2. පැරණි වෙද පොත් මෙරට භාවිතයේ පැවතීම
3. පැරණි රෝහල් ගොඩනැගිලිවල නටබුන් හමුවීම
4. පුරා විද්‍යාත්මක කැණීම්වලින් ශල්‍ය වෛද්‍ය උපකරණ හමුවීම

(31) ක්‍රිස්තු පූර්ව දෙවන සියවසට අයත් සෙල්ලිපියක ඇළ මාර්ග ඉදිකිරීම සම්බන්ධ නිලධාරියා හඳුන්වා ඇත්තේ,

- | | |
|---------------|------------|
| 1. මොහොල් නගා | 2. මහමත |
| 3. අඬික | 4. පන අදෙක |

(32) " අහසෙන් වැටෙන එක දිය බිඳක්වත් ප්‍රයෝජනයට නොගෙන මුහුදට යාමට ඉඩ නොදිය යුතුය" යන ප්‍රකාශය සිදුකළ රජතුමා වූයේ.

- | | |
|------------------|----------------------------|
| 1. මහසෙන් රජතුමා | 2. මහා පරාක්‍රමබාහු රජතුමා |
| 3. වසභ රජතුමා | 4. ධාතුසේන රජතුමා |

(33) අඹන් ගඟ හරස් කර ඉදි කළ ඇළහැර ඇළෙන් ජලය ගෙන ගිය වැවක් නොවන්නේ,

- | | |
|----------------|-----------------|
| 1. කලා වැව | 2. කන්තලේ වැව |
| 3. ගිරිතලේ වැව | 4. කවුඩුල්ල වැව |

- (34) පණ්ඩුකාභය රජුගේ පාලන කාලයේ දී අනුරාධපුරයේ ඉදි කොට තිබූ මාතෘ නිවාස පිළිබඳ මහාවංශයේ සඳහන්ව ඇත්තේ මින් කිනම් තමකින් ද ?
1. සිව්කා සාලා
 2. පසවන්තිනාමසාලා
 3. සොත්ථිසාලා
 4. උණසග්ගරෝගනාස
- (35) අතීතයේ "අමුණු" යන මිනුම භාවිතා කරන ලද්දේ,
1. දුර මැනීමටය.
 2. බර මැනීමටය.
 3. වපසරිය මැනීමටය.
 4. කාලය මැනීමටය.
- (36) පුරාණ අවධියේ රජුට අයත් ඉඩම්වල වගා කිරීම වෙනුවෙන් ගෙවන ලද බද්ද හැඳින්වූයේ,
1. දකපති
 2. මතරමජ්ඛක
 3. මාත්‍රික මත්සය භාගය
 4. බොජකපති
- (37) V.O.C. යන ඉංග්‍රීසි අකුරු සහිත කාසි කිනම් රටක වෙළෙඳ සමාගමකට අයත් වූයේ ද ?
1. බ්‍රිතාන්‍ය
 2. ඕලන්දය
 3. පෘතුගාලය
 4. ප්‍රංශය
- (38) අතීතයේ මෙරට ප්‍රභූවරුන් අතර ජනප්‍රියව පැවති ආහාරයක් වූයේ සුවඳ ගිතෙලින් පිසූ මොනර මස් හා ඇල් භාලින් සෑදූ බත් බව සඳහන් ග්‍රන්ථය වූයේ,
1. පූජාවලිය
 2. පාරමී ශතකය
 3. සද්ධර්මරත්නාවලිය
 4. උල්වංශය
- (39) සහල් එක් කොටසකට වතුර කොටස් හයක් යොදා රෝගීන්ට සෑදූ කැඳ අතීතයේ හැඳින්වූයේ,
1. යවාගු
 2. අඹු
 3. දිය කැඳ
 4. කොළ කැඳ
- (40) අනුරාධපුර පුවරු ලිපියේ උස් ගොඩබිම් ඉඩම්වල කැලෑ නොකැපිය යුතු බවට නියෝගය ලබාදුන් රජතුමා වන්නේ,
1. පස්වන කාශ්‍යප රජු
 2. හතරවන උදය රජු
 3. කීර්ති ශ්‍රී මේඝවර්ණාභය රජු
 4. හතරවන මිහිඳු රජු

1874

1875

1876

1877

1878

1879

1880

1881

1882

1883

1884

1885

1886

1887

1888

1889

1890

1891

1892

1893

1894

1895

1896

1897

1898

1899

1900

1901

1902

1903

1904

1905

1906

1907

1908

1909

1910

1911

1912

1913

1914

1915

1916

1917

1918

1919

1920

1921

1922

1923

1924

1925

1926

1927

1928

1929

1930

1931

1932

1933

1934

1935

1936

1937

1938

1939

1940

1941

1942

1943

1944

1945

1946

1947

1948

1949

1950

1951

1952

1953

1954

1955

1956

1957

1958

1959

1960

1961

1962

1963

1964

1965

1966

1967

1968

1969

1970

1971

1972

1973

1974

1975

1976

1977

1978

1979

1980

1981

1982

1983

1984

1985

1986

1987

1988

1989

1990

1991

1992

1993

1994

1995

1996

1997

1998

1999

2000

2001

2002

2003

2004

2005

2006

2007

2008

2009

2010

2011

2012

2013

2014

2015

2016

2017

2018

2019

2020

2021

2022

2023

2024

2025

2026

2027

2028

2029

2030

2031

2032

2033

2034

2035

2036

2037

2038

2039

2040

2041

2042

2043

2044

2045

2046

2047

2048

2049

2050

2051

2052

2053

2054

2055

2056

2057

2058

2059

2060

2061

2062

2063

2064

2065

2066

2067

2068

2069

2070

2071

2072

2073

2074

2075

2076

2077

2078

2079

2080

2081

2082

2083

2084

2085

2086

2087

2088

2089

2090

2091

2092

2093

2094

2095


2096

2097

2098

2099

2100



සියලු ම හිමිකම් ඇවිරිණි
All Rights Reserved

දකුණු පළාත් අධ්‍යාපන දෙපාර්තමේන්තුව
Department of Education, Southern Province

33 S II

42776

දෙවන වාර පරීක්ෂණය, 2018 ජූලි
Second Term Test, July 2018

10 ශ්‍රේණිය
Grade 10

ඉතිහාසය- II
History - II

පැය තුනයි
Three hours

විභාග අංකය
.....

- I කොටසේ ප්‍රශ්න අංක 1 අනිවාර්ය වේ
- II කොටසින් ප්‍රශ්න හතරකට ද, III කොටසින් ප්‍රශ්න එකකට ද පිළිතුරු සපයන්න.
- පිළිතුරු සැපයිය යුතු මුළු ප්‍රශ්න සංඛ්‍යාව හයකි

I කොටස

(01) (අ) පහත (I) යටතේ දක්වා ඇති ඓතිහාසික ස්ථාන සියල්ලම සපයා ඇති ශ්‍රී ලංකා සිතියමෙහි ද (II) යටතේ දක්වා ඇති ස්ථාන සියල්ල ලෝක සිතියමෙහිද ලකුණු කර නම් කරන්න.

- (i) පාහියන්ගල, වලවේ ගඟ, යෝධ වැව, ජම්බුකෝලපට්ටන, ගෝකන්න තිත්ඵ, මහනුවර, කාලතිත්ඵ, උරුවේල, හුරුඵ වැව, බුන්දල, කලා මය, ඵලිගන්ඵපාස් (උ.12)
- (ii) පර්සියන් බොක්ක, ගෝඵ, මලය අර්ධද්වීපය, රෝමය, මදුරාසිය, ඇෆ්ගනිස්ථානය (උ.06)

ආ) (i) පහත A, B, C හා D යටතේ දක්වා ඇති ඓතිහාසික තොරතුරු හා සම්බන්ධ පුද්ගලයින්, ස්ථාන හා ඓතිහාසික මූලාශ්‍ර අනුපිළිවෙලින් ඔබේ පිළිතුරු පත්‍රයේ ලියා දක්වන්න.

- A - පුඵම වරට ශ්‍රී ලංකාවේ සිතියමක් නිර්මාණය කළ රෝම ජාතිකයා
- B - දේවානම්පියතිස්ස රජු සමග මිත්‍ර සබඳතා පැවැත් වූ ඉන්දීය අධිරාජයා
- C - පූර්ව ඓතිහාසික යුගයට අයත් රත්නපුර දිස්ත්‍රික්කයේ පිහිටි සොහොන් බිම
- D - දන්ත ධාතුන් වහන්සේ රැගෙන හේමමාලා කුමරිය හා දන්ත කුමරුන් මෙරටට පැමිණි නැවතොට (උ.04)

(ii) යාබද A සහ B යටතේ දක්වා ඇති පින්තූර අධ්‍යයනය කර අසා ඇති ප්‍රශ්නවලට පිළිතුරු සපයන්න.

- A. (i) මෙම පින්තූරයෙන් දක්වෙන ශිලා ලිපිය නම් කරන්න
- (ii) මෙය ලියා ඇත්තේ කුමන රජු දවස ද ?
- (iii) මෙම ශිලා ලිපිය පිහිටා ඇති ප්‍රදේශය කුමක් ද ?
- (iv) මෙම ශිලා ලිපියේ ඇති විශේෂත්වය කුමක් ද ?



(උ.04)

- B 1. මෙම රූපයෙන් දැක්වෙන සිතුවම කුමක් ද ?
- 2. මෙම සිතුවම පිහිටි ස්ථානය කුමක් ද ?
- 3. මෙය කවර රජතුමාගේ වාස හවන ද ?
- 4. මෙම සිතුවම අයත්වන සියවස කුමක් ද ?



(ල.04)

II කොටස

(02) (i) ශ්‍රී ලංකාවට පැමිණ ඒ පිළිබඳ වාර්තා තබා ඇති පහත සඳහන් කතුවරුන් නියෝජනය කල රට පිළිවෙලින් නම් කරන්න.

A - ඉබන් බතුතා

B - පාහියන් හිමි

C - රොබට් නොක්ස්

(ල.03)

(ii) පුරාණ නටබුන් ලෙස ශ්‍රී ලංකාවේ විවිධ ප්‍රදේශවලින් දකගත හැකි අංග හතරක් සඳහන් කරන්න. (ල.04)

(iii) ඉතිහාසය හැදෑරීමේ දී සෙල්ලිපි වැදගත් සාධකයකි.

A - සෙල්ලිපි වර්ග තුනක් හා

B - සෙල්ලිපිවල වාර්තා කර තිබූ කරුණු දෙකක් ලියන්න

(ල.05)

(iv) ශ්‍රී ලංකාවේ ඉතිහාසය හඳුනා ගැනීමට පුරාවිද්‍යාත්මක හා සාහිත්‍ය මූලාශ්‍ර වැදගත් වී ඇති අයුරු කරුණු දෙකක් මගින් පැහැදිලි කරන්න. (ල.06)

(03) (i) ශ්‍රී ලංකාවේ ප්‍රාග් ඓතිහාසික මානවයා වාසය කළ බවට සාක්ෂි ලැබී ඇති, කැණීම් කරන ලද ස්ථාන තුනක් නම් කරන්න. (ල.03)

(ii) ප්‍රාග් ඓතිහාසික මානවයා ආහාර සඳහා

A - දඩයම් කළ සතුන් වර්ග දෙකක්

B - භාවිතා කළ ශාක ආහාර දෙකක් සඳහන් කරන්න.

(ල.04)

(iii) ගල් යුගයේ විසූ මිනිසුන් භාවිතා කළ තාක්ෂණය සම්බන්ධව කරුණු තුනක් ඉදිරිපත් කරන්න. (ල.05)

(iv) ගල් යුගයේ ජනයා කම ජීවන රටාව පවත්වාගෙන ගිය අයුරු කරුණු තුනක් ඔස්සේ කෙටියෙන් විස්තර කරන්න. (ල.06)

(04) (i) ගල් යුගයේ පැවති අභිචාර විධි පිළිබඳ සාක්ෂි සොයාගෙන ඇති ස්ථාන තුනක් නම් කරන්න. (ල.03)

(ii) ඓතිහාසික යුගයේ විවිධ වෘත්තිකයින් වාසය කළ ජනාවාස පහත දැක්වේ. ඒවාට භාවිතා කළ නම් වරහන් තුළින් තෝරා පිළිතුරු ලියන්න.

A - ගොපල්ලන් විසූ ගම් -

B - ගොවියන් විසූ ගම් -

C - ධීවරයන් විසූ ගම් -

D - වෙළෙඳ ගම් -

(කේට්ටිගාම, ඔළගම්, ගෝපාලගාම, නියම්ගම්, මාණිකාරගාම, කසිකාරගාම) (ල.04)

(iii) ප්‍රාග් ඓතිහාසික යුගයෙන් පසු පූර්ව ඓතිහාසික යුගයට පරිවර්තනය වීමේදී ඇති වූ වෙනස්කම් තුනක් ඉදිරිපත් කරන්න. (ල.05)

(iv) ශ්‍රී ලංකාවේ පූර්ව ඓතිහාසික යුගයට අයත් ජීවන රටාවේ ස්වරූපය පිළිබඳ සාධක දෙකක් උදාහරණ සහිතව විස්තර කරන්න. (ල.06)

- (05) (i) මුල් ඓතිහාසික යුගයේ ජනාවාස ව්‍යාප්තියට බලපෑ ප්‍රධාන සාධක තුනක් ලියන්න (උ.03)
- (ii) පහත සඳහන් කරුණුවලට අදාළ සෙල්ලිපි මූලාශ්‍රය වරහන තුළින් තෝරා ලියන්න.
- A - දසගම් ඇත්තන් විසින් විහාරයක දානය සපයා ගැනීමේ ගැටලුවක් විසඳීම
- B - ගල් ගුහාවක් පූජා කළ පරුමකවරයෙකු ' තොට බොජක ' නමින් හඳුන්වා තිබීම
- C - සුමනගේ පවුලට අයත් ලෝහ වැඩ කළ ගෘහපතියෙකු හික්ෂුන් වහන්සේලාට ගල්ලෙනක් පිරිසිදු කර පූජා කිරීම
- D - සෙන්පතිවරුන් පරුමකයින් ලෙස හඳුන්වා දීම
- (පෙරියපුලියන්කුලම, සිතුල් පව්ව, ඇඹුල් ඇඹේ, කොන්ගල්කන්ද, කඵදිය පොකුණ, වෙස්සගිරිය) (උ.04)
- (iii) රාජ්‍ය පාලකයාගෙන් රටවැසියාට ඉටුවිය යුතු යුතුකම් තුනක් සඳහන් කර ඉන් එකක් කෙටියෙන් පැහැදිලි කරන්න. (උ.05)
- (iv) ලක්දිව පාලනය කළ ශ්‍රේෂ්ඨ නරපතියෙකු වූ දුටුගැමුණු රජතුමාගේ සේවාවන් දෙකක් විස්තර කරන්න. (උ.06)
- (06) (i) පහත දැක්වෙන රාජ්‍යත්ව සංකල්පයට අදාළ රජතුමාගේ නම පිළිවෙලින් නම් කරන්න.
- A - දේවත්ව
- B - නරේෂ්වර
- C - චක්‍රවර්ති
- (උ.03)
- (ii) මධ්‍යගත පාලනයට සම්බන්ධ පහත දැක්වෙන තැනැත්තන්ගේ නිල නාමයන් පිළිවෙලින් වරහන තුළින් තෝරා නම් කරන්න.
- A - සේනාපති
- B - නගර පරිපාලක
- C - භෝජන ශාලා අධිකාරී
- D - අශ්ව අංශයේ ප්‍රධානී
- (බතුඟු, ශෙනපති, මහමත, නගරගුණික, හති අදෙක, අස අදෙක, නට අදෙක) (උ.04)
- (iii) පැරණි ශ්‍රී ලංකාවේ රාජ්‍ය උරුමය ලැබුණු ආකාරය උදාහරණ සහිතව කරුණු දෙකකින් පැහැදිලි කරන්න. (උ.05)
- (iv) පොළොන්නරුව රාජධානිය බවට පත් කර ගත් ප්‍රථම පාලකයා වූ මහා විජයබාහු රජතුමාගේ සේවාවන් දෙකක් විස්තර කරන්න. (උ.06)

(07) (i) ශ්‍රී ලංකාවේ පැරණි සමාජයේ වාසය කළ ගැමියන් හේන් ගොවිතැනෙහි දී බහුලව වගා කළ ධාන්‍ය වර්ග තුනක් සඳහන් කරන්න. (උ.03)

(ii) පහත A සිට D දක්වා ඇති එක් එක් ප්‍රකාශයට අදාළ පිළිතුරු වරහන තුළින් තෝරා අනුපිළිවෙලින් ලියා දක්වන්න.

- A - ලපනතිස්ස නම් සිත්තරා පිළිබඳ සඳහන් සෙල්ලිපිය
- B - රෝමයට තානාපති නිලධාරීන් යවා විදුරු පබළු ගෙන්වා රුවන්වැලිසෑයට පූජාවක් පැවැත්වූ රජතුමා
- C - හම්බන්තොටින් හමු වූ ලෝහ මුද්‍රාව අයත් වූ විදේශීය වෙළෙඳ සංවිධානය
- D - වෙර රාජ්‍යයේ පත්තිනි දේවාලයක් විවෘත කිරීමට ගිය රජතුමා

(නනාදේසි, පළමුවන ගජබා, අයින්තුරුවර්, නැට්ටුකන්ද, මහසෙන්, හානිකාහය, කොත්ගල්කන්ද) (උ.04)

(iii) ඉතා පුරාණ කාලයක සිට මෙරට පැවති කර්මාන්ත තුනක් ඊට අදාළ මූලාශ්‍ර ද සහිතව හඳුන්වන්න. (උ.05)

(iv) සොරබොර වැව වැම්පිපියේ සඳහන් වෙළෙඳ නීති තුනක් සඳහන් කර ඉන් එකක් කෙටියෙන් පැහැදිලි කරන්න (උ.06)

III කොටස

(08) (i) ඇත අතීතයේ සිට මෙරට නගරවල වෙළඳාම සඳහා පැමිණි වෙනත් ආගම් හා සංස්කෘතීන්ට අයත් ජන කණ්ඩායම් තුනක් නම් කරන්න. (උ.03)

(ii) පහත සඳහන් වාරි පද්ධති ගොඩනැගීමට අනුග්‍රය දැක්වූ රජවරුන් පිළිවෙලින් නම් කරන්න.

- A - කලා වැව
- B - මින්නේරිය වැව
- C - තිසා වැව
- D - බසවක්කුලම වැව

(උ.04)

(iii) අප රටේ මුතුන් මිත්තන්ගේ විස්මිත දැනුමේ ස්වභාවය ජල කළමනාකරණය තුළින් විදහා දැක්වේ.

- A - වැවක ප්‍රධාන අංග තුනක් නම් කරන්න
- B - මහ වැව් සෑදීමේ අරමුණු දෙකක් සඳහන් කරන්න.

(උ.05)

(iv) ඉතා පුරාණයේ පටන් ශ්‍රී ලංකාවේ යකඩ නිස්සාරණ තාක්ෂණය පැවැති බව කරුණු දෙකක් මගින් පැහැදිලි කරන්න. (උ.06)

(09) (i) අතීතයේ දී පහත සඳහන් නීති පැන වූ රජවරුන් වරහන තුළින් තෝරා ලියන්න.

- A - විනිශ්චය ශාලාවෙන් ලැබෙන දඩ මුදල් හික්ෂුන් වහන්සේලාගේ සිව්පසය සපයා ගැනීමට පූජා කිරීම
- B - කිසිදු සතෙකු නොමැරිය යුතු බව " මාසාන නීතිය"
- C - වැව්වලින් ගොවිතැන් කරන කුඹුරුවල සිහිනැටි වී මිස මුංඇට වැපිරීම නොකල යුතු බව

(අමණ්ඩ ගාමිණී අභය රජු, වට්ටගාමිණී අභය රජු, හතරවන මහින්ද රජු, පළමුවන ගජබාහු රජු, හතරවන උදය රජු) (උ.03)

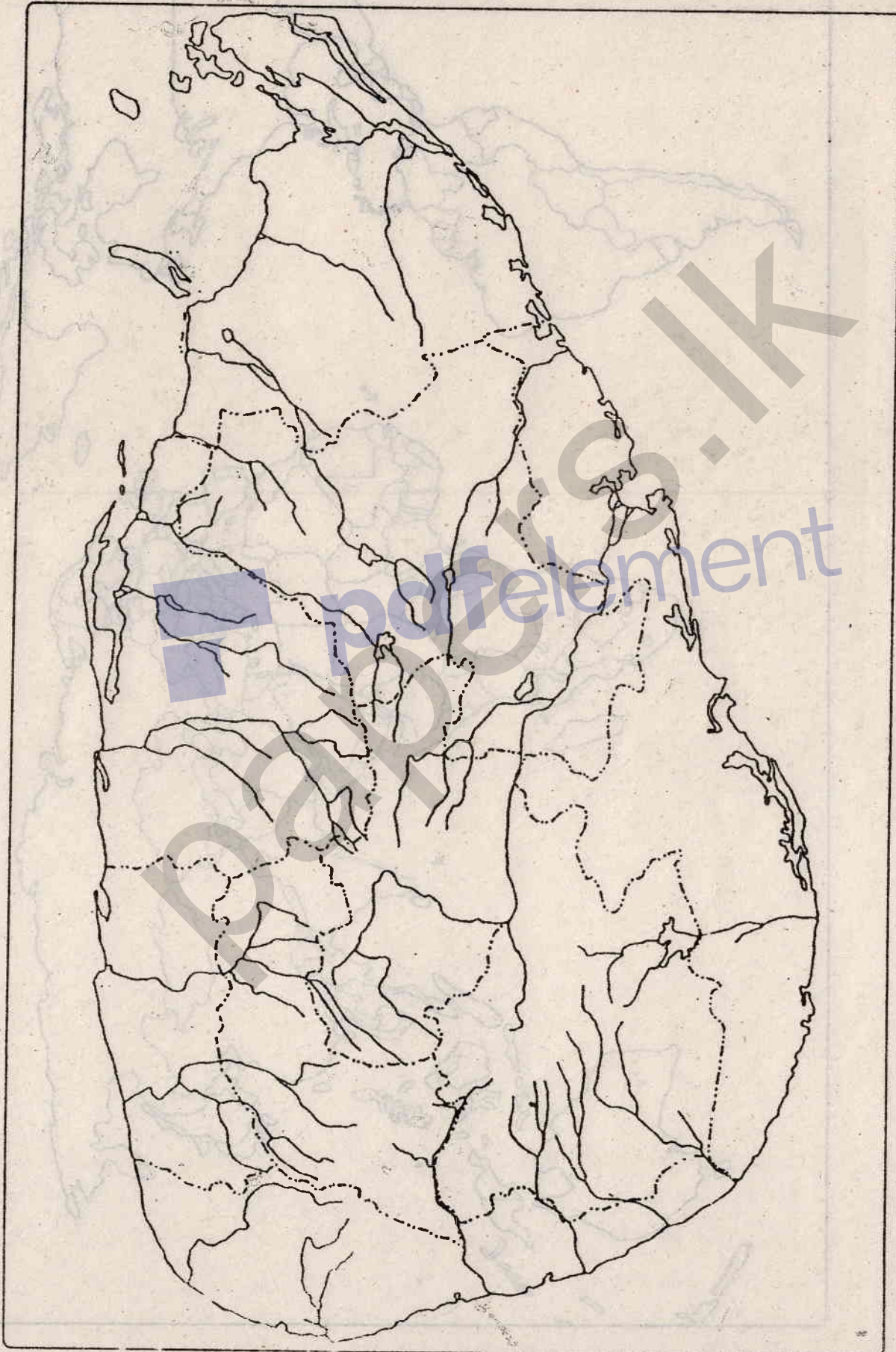
(ii) බෞද්ධ විහාරාගාරවල විසූ හික්ෂුන්වහන්සේලාගේ ප්‍රයෝජනය සඳහා ඉදිකරන,ලද පොකුණු හතරක් නම් කරන්න. (උ.04)

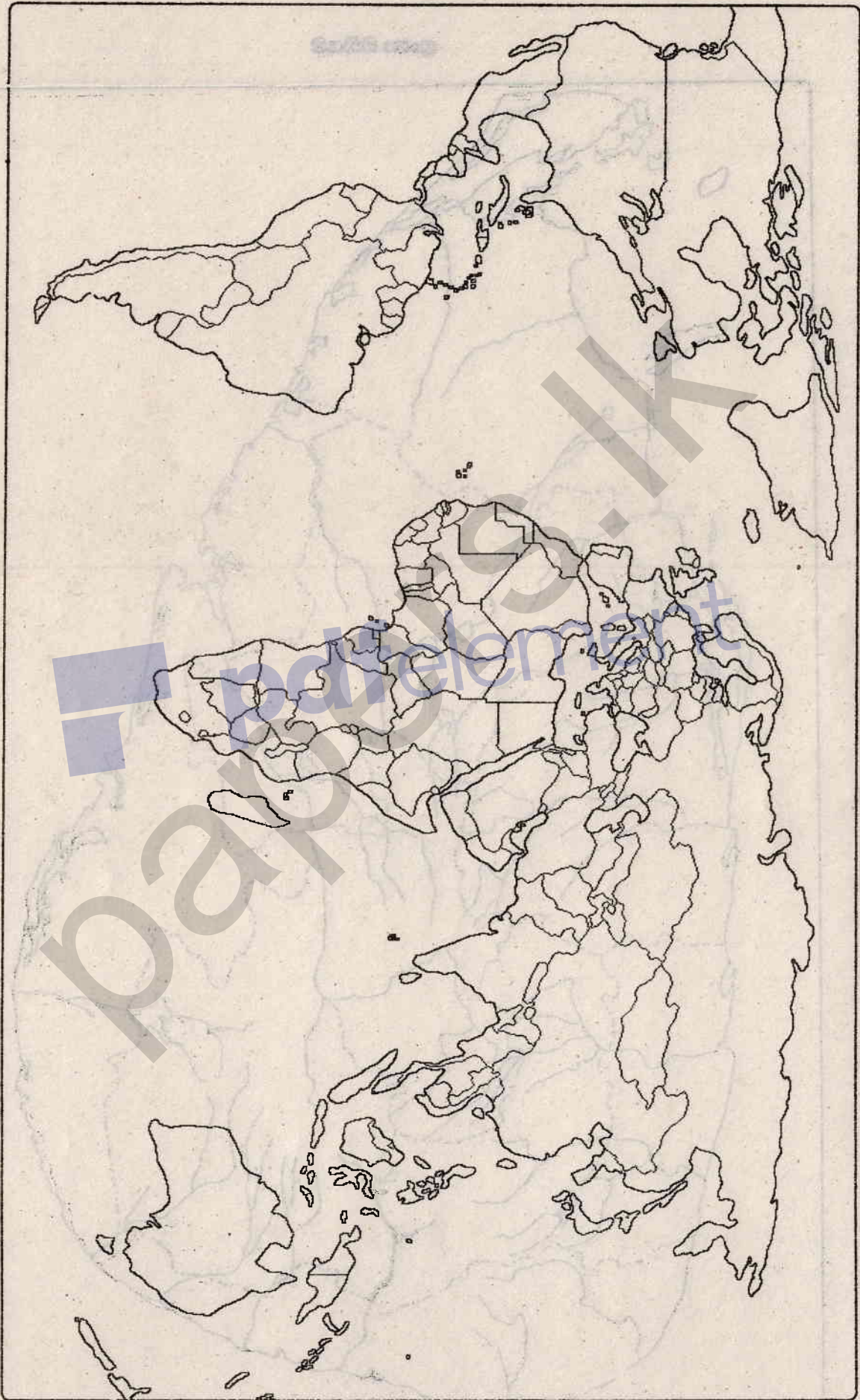
(iii) පැරණි කාලයේ ශ්‍රී ලංකාවේ සමාජය කාන්තාවන් හට ඉතා ගෞරවයෙන් සලකා ඇත.

- A - රාජ්‍ය පාලනයේ නිරත වූ රැජිනන් දෙදෙනෙකු ද
- B - කාන්තා නායකාවන් ප්‍රාදේශීය පාලනයට සම්බන්ධ වූ අවස්ථාවක් ද කෙටියෙන් සඳහන් කරන්න.(උ.05)

(iv) කෘෂිකර්මාන්තයේ යෙදී සිටි අතීත ජනයා යාතුකර්ම පූජා හා කෙම් පහන් ක්‍රම භාවිතා කළ බව කරුණු දෙකක් මගින් විස්තර කරන්න. (උ.06)

ලංකා සිතියම





ഇന്ത്യയുടെ ഭൂപടം