

කැලණිය අධ්‍යාපන කලාපය

දෙවන වාර පරීක්ෂණය - 2018

11 ශ්‍රේණිය

භූගෝල විද්‍යාව II

කාලය: පැය දෙකයි.

නම:

විභාග අංකය:

- සැලකිය යුතුයි.
- මෙම ප්‍රශ්න පත්‍රය 1 සහ 11 වශයෙන් කොටස් දෙකකි.
- 1 කොටස අනිවාර්යය වේ. 11 කොටසින් ප්‍රශ්න හතරකට පිළිතුරු සැපයිය යුතුය

1 කොටස

01) අ) ඔබ වෙත සපයා ඇති 1: 50,000 භූ ලක්ෂණ සිතියම කොටස අධ්‍යයනය කොට ඒ ඇසුරෙන් අසා ඇති ප්‍රශ්නවලට පිළිතුරු සපයන්න.

අංක 1 සිට 8 දක්වා ඇති ස්ථානවල භූ ලක්ෂණ තෝරා ලියන්න.

1. තුඩුව / දූපත
 2. කලපුව / මෝය
 3. ගං දහරය / වගුර
 4. ඓතිහාසික ස්ථාන / බෞද්ධ සිද්ධස්ථාන
 5. දිස්ත්‍රික්ක මායිම / ප්‍රාදේශීය ලේකම් කොට්ඨාස මායිම
 6. ගෙවතු / වෙනත් වගා
 7. තණබිම් / හේන්
 8. පොල් / රබර් (ලකුණු 04)
- ii. ප්‍රදේශයේ නිරිතදිග භාගයේ පිහිටි පාලමේ සිට ඊට දකුණු දෙසින් ගඟ අසබඩ පිහිටි බෞද්ධ සිද්ධස්ථානය දක්වා ගංගාවේ දිග කොපමණ ද? (ලකුණු 02)
- iii. සිතියම ප්‍රදේශයේ තිබෙන ප්‍රධාන බෝග වර්ග දෙකක් නම් කරන්න. (ලකුණු 01)
- iv. සිතියම ප්‍රදේශයේ අඩු සංවර්ධනයක් තිබෙන්නේ කුමන ප්‍රදේශයේ ද? (ලකුණු 01)
- v. මෙම සිතියම ප්‍රදේශය ආශ්‍රිතව දියුණු කළ හැකි කර්මාන්ත දෙකක් නම් කරන්න. (ලකුණු 02)

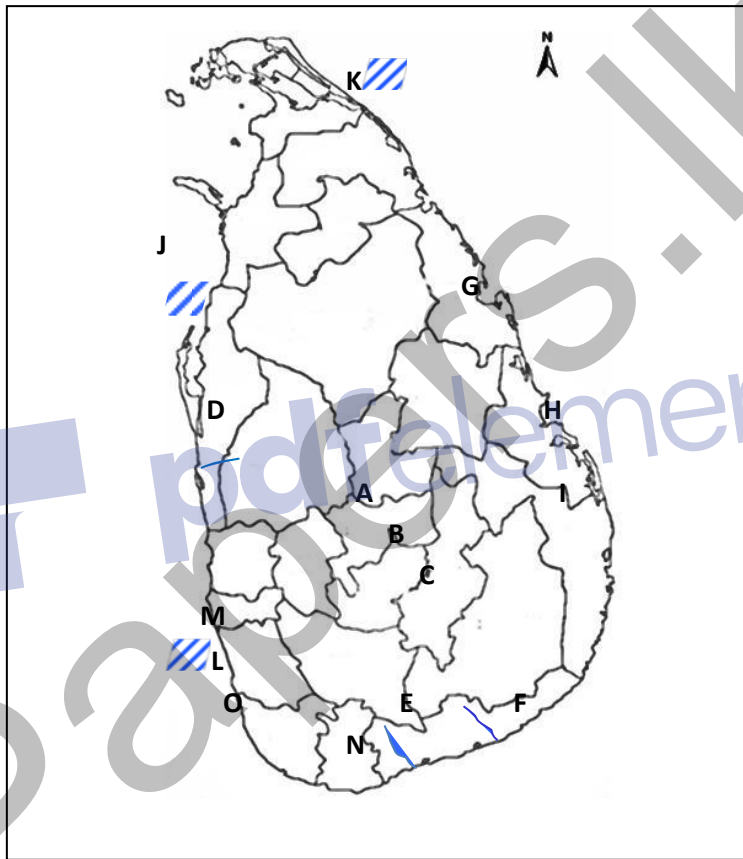
ආ) මෙහි දැක්වෙන ලෝක සිතියම හොඳින් අධ්‍යයනය කොට පහත සඳහන් ප්‍රශ්න වලට පිළිතුරු සපයන්න.



- i. සිතියමේ දක්වා ඇති A, B, C අක්ෂර අතුරින් මෝටර් රථ නිෂ්පාදනය කරන ප්‍රධාන රටක් වන ජපානය දැක්වෙන අක්ෂරය තෝරන්න.
- i. සිතියමේ දක්වා ඇති D, E, F අක්ෂර අතුරින් වගා කරන ප්‍රදේශයක් වන ආර්ජන්ටිනාව දැක්වෙන අක්ෂරය කුමක් ද?
- ii. සිතියමේ G, H, I අක්ෂර අතුරින් වර්තමානයේ ලොව නැව් නිෂ්පාදනයේ ප්‍රමුඛයා වන දකුණු කොරියාව දැක්වෙන අක්ෂරය ලියන්න.
- iii. සිතියමේ J, K, L අක්ෂර අතුරින් මරේඩාලිං නිම්නය දැක්වෙන අක්ෂරය කුමක් ද?
- iv. සිතියමේ දැක්වෙන M, N, O අක්ෂර අතුරින් නවසීලන්තය දැක්වෙන අක්ෂරය ලියන්න. .

(ලකුණු 05)

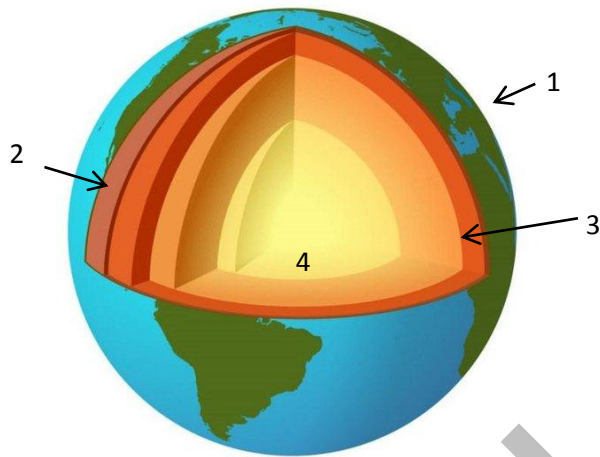
9) මෙහි ඇති ලංකා සිතියම හොඳින් අධ්‍යයනය කර පහත සඳහන් ප්‍රශ්න වලට පිළිතුරු සපයන්න.



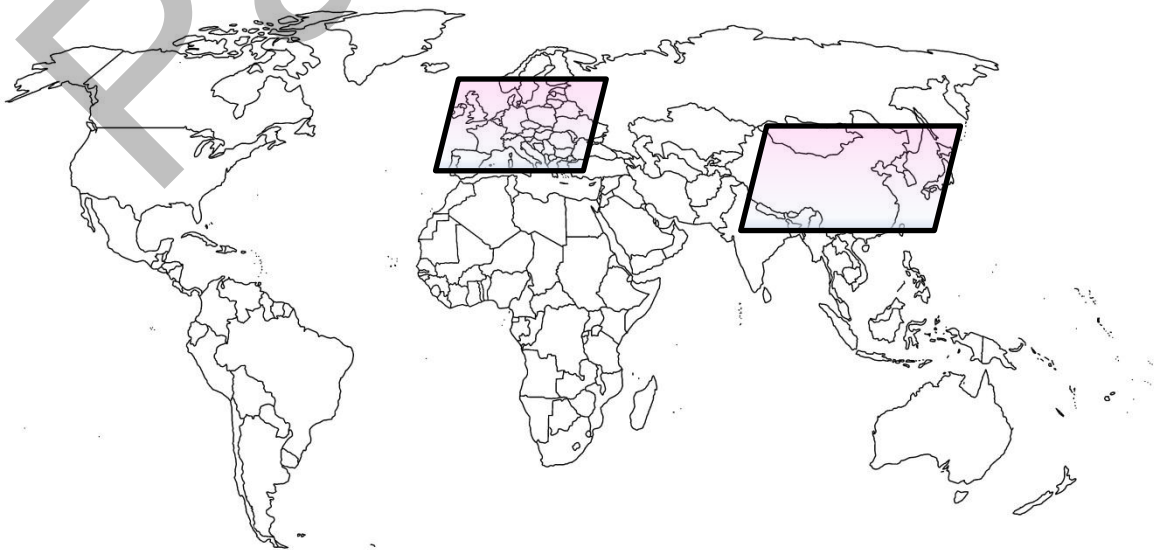
- i. සිතියමේ A,B,C අතුරින් තේ පර්යේෂණායතනය පිහිටි දිස්ත්‍රික්කය කුමක් ද?
- ii. සිතියමේ D,E,F දැක්වෙන ගංගා වලින් වලවේ ගඟ දැක්වෙන අක්ෂරය කුමක් ද?
- iii. සිතියමේ G,H,I වලින් දක්වා ඇති ස්ථාන අතරින් ආරුගම් බොක්ක දැක්වෙන අක්ෂරය කුමක් ද?
- iv. සිතියමේ J,K,L අක්ෂර අතරින් පර්ල් මුතුපර දැක්වෙන අක්ෂරය කුමක් ද?
- v. සිතියමේ M,N,O යන ස්ථාන අතරින් කිරල කැලේ දැක්වෙන අක්ෂරය කුමක් ද?

(ලකුණු 05)

02) පෘථිවි ව්‍යුහය දැක්වෙන හරස්කඩක් යාබද රූපයේ ඇත.

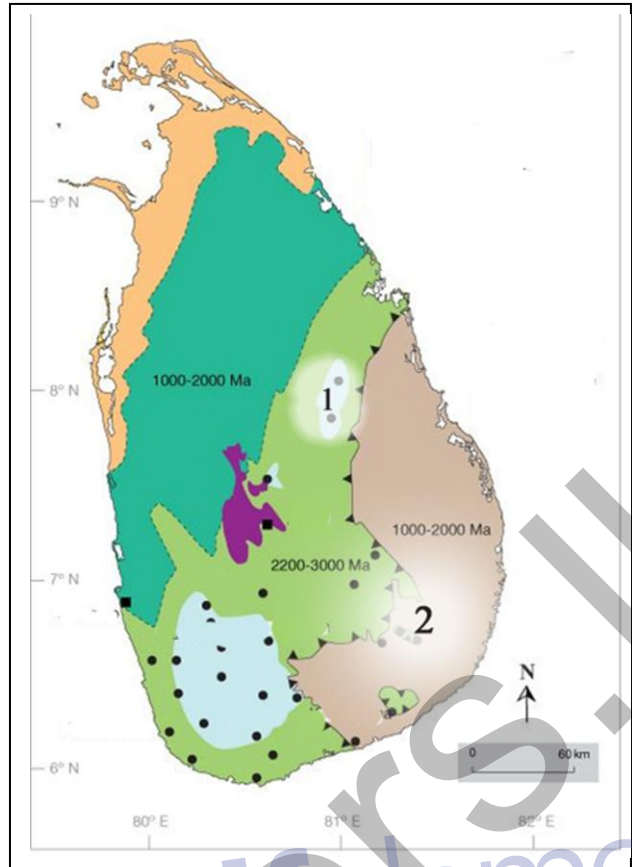


- i. රූප සටහනට අනුව 1 හා 3 අංකවලින් දක්වා ඇති ස්ථර නම් කරන්න. (ලකුණු 02)
 - ii. අංක 1 දරණ කොටසේ කැපී පෙනෙන ලක්ෂණ තුනක් ලියන්න. (ලකුණු 03)
 - iii. ජලයේ ගුණාත්මක භාවය අඩු කිරීමට හේතු වී ඇති මිනිස් ක්‍රියාකාරකම් දෙකක් විස්තර කරන්න. (ලකුණු 05)
- 03) i. ශ්‍රී ලංකාවේ තේ වගාව ආරම්භ කළ වතුයාය හා තේ හඳුන්වා දුන් පුද්ගලයා නම් කරන්න. (ලකුණු 02)
- ii. තේ වගාව සාර්ථක වීම කෙරෙහි බලපාන සාධක තුනක් දක්වන්න. (ලකුණු 03)
 - iii. තේ වගාව දියුණු කිරීමෙන් ශ්‍රී ලංකා ආර්ථිකයට ලබා ගත හැකි ප්‍රයෝජන දෙකක් විස්තර කරන්න. (ලකුණු 05)
- 04) i. ලෝකයේ ප්‍රධාන නිවර්තන වර්ෂා වනාන්තර දෙකක් නම් කරන්න. (ලකුණු 02)
- ii. නිවර්තන වර්ෂා වනාන්තර වල ලක්ෂණ තුනක් ලියන්න. (ලකුණු 03)
 - iii. වනාන්තර හා වන ජීවීන් මුහුණපාන ගැටලු දෙකක් විස්තර කරන්න. (ලකුණු 05)
- 05) i. ලෝක සිතියමේ ලකුණු කොට ඇති ජනාධික කලාප දෙක නම් කරන්න. (ලකුණු 02)



- ii. අසම ජන ව්‍යාප්තිය කෙරෙහි බලපාන සාධක තුනක් දක්වන්න. (ලකුණු 03)
- iii. ශ්‍රී ලංකාවේ ජන සංඛ්‍යා ව්‍යුහය ආශ්‍රිතව දැකිය හැකි විශේෂ ලක්ෂණ දෙකක් පැහැදිලි කරන්න. (ලකුණු 05)

06) ශ්‍රී ලංකාවේ ඛනිජ ව්‍යාප්තිය පහත සිතියමේ දැක්වේ.



- i. මැණික් ලැබෙන ප්‍රදේශ දෙකක් 1 හා 2 අංකවලින් දක්වා ඇත. ඒවා නම් කරන්න. (ලකුණු 02)
 - ii. මැණික් වලින් ලබා ගන්නා ප්‍රයෝජන තුනක් සඳහන් කරන්න (ලකුණු 03)
 - iii. බලශක්ති සම්පත් සංරක්ෂණය කිරීමේ වැදගත්කම කරුණු දෙකක් ඇසුරෙන් පැහැදිලි කරන්න. (ලකුණු 05)
-
- 07) i. සංවර්ධනය යන්න හඳුන්වන්න. (ලකුණු 02)
 - ii. සංවර්ධනය මනින නූතන මිනුම් තුනක් ලියන්න. (ලකුණු 03)
 - iii. ශ්‍රී ලංකාව මානව සම්පත් සංවර්ධනය සඳහා ගෙන ඇති ක්‍රියාමාර්ග දෙකක් විස්තර කරන්න. (ලකුණු 05)