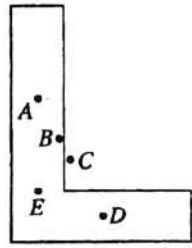


ශ්‍රී ලංකා විභාග දෙපාර්තමේන්තුව ශ්‍රී ලංකා විභාග දෙපාර්තමේන්තුව ශ්‍රී ලංකා විභාග දෙපාර්තමේන්තුව ශ්‍රී ලංකා විභාග දෙපාර්තමේන්තුව ශ්‍රී ලංකා විභාග දෙපාර්තමේන්තුව
 Department of Examinations, Sri Lanka Department of Examinations, Sri Lanka Department of Examinations, Sri Lanka Department of Examinations, Sri Lanka Department of Examinations, Sri Lanka

අධ්‍යයන පොදු සහතික පත්‍ර (උසස් පෙළ) විභාගය, 2012 අගෝස්තු
 கல்விப் பொதுத் தராதரப் பத்திர(உயர் தர)ப் பரீட்சை, 2012 ஆகஸ்ட்
General Certificate of Education (Adv. Level) Examination, August 2012
නව නිර්දේශය
புதிய பாடத்திட்டம்
New Syllabus

භෞතික විද්‍යාව I பௌதிகவியல் I Physics I	<div style="border: 1px solid black; display: inline-block; padding: 2px 10px;">01</div> <div style="border: 1px solid black; display: inline-block; padding: 2px 10px;">S</div> <div style="border: 1px solid black; display: inline-block; padding: 2px 10px;">I</div>	පැය දෙකයි இரண்டு மணித்தியாலங்கள் Two hours
---	--	--

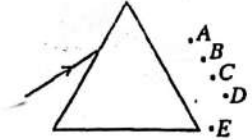
- උපදෙස් :**
- * මෙම ප්‍රශ්න පත්‍රයේ ප්‍රශ්න 50 ක්, පිටු 10 ක අඩංගු වේ.
 - * සියලුම ප්‍රශ්නවලට පිළිතුරු සපයන්න.
 - * පිළිතුරු පත්‍රයේ නියමිත ස්ථානයේ **මටේ විභාග අංකය ලියන්න.**
 - * පිළිතුරු පත්‍රයේ පිටුපස දී ඇති අනෙක් උපදෙස් ද සැලකිලිමත් ව කියවන්න.
 - * 1 සිට 50 තෙක් වූ එක් එක් ප්‍රශ්නය සඳහා දී ඇති (1), (2), (3), (4), (5) යන පිළිතුරුවලින් කිවැරදි හෝ ඉතාමත් ගැලපෙන හෝ පිළිතුර තෝරාගෙන, එය, පිළිතුරු පත්‍රයේ දැක්වෙන උපදෙස් පරිදි කතිරයකින් (X) ලකුණු කරන්න.
- ශක්තිය ගැන භාවිතයට ඉඩ දෙනු නොලැබේ.
 (g = 10 N kg⁻¹)

1. පහත දක්වන කුමක් SI පද්ධතියේ මූලික ඒකකයක් නිරූපණය නොකරයි ද?
 (1) m (2) N (3) kg (4) s (5) K
 2. ස්කන්ධ දෙකක් අතර දුර දෙගුණ කළහොත් ඒවා අතර ගුරුත්වාකර්ෂණ බලය අඩු වන සාධකය වන්නේ
 (1) 2 (2) 4 (3) 6 (4) 8 (5) 12
 3. L හැඩැති ඒකාකාර තුනී ලෝහ තහඩුවක් රූපයේ පෙන්වා ඇත. තහඩුවේ ගුරුත්ව කේන්ද්‍රය පැවතීමට වඩාත් ම ඉඩ ඇති ලක්ෂ්‍යය වනුයේ
 (1) A
 (2) B
 (3) C
 (4) D
 (5) E
- 
4. ආරම්භක දිග l_0 වූ සැහැල්ලු ප්‍රත්‍යස්ථ තන්තුවක් d පරතරයක් ($d > l_0$) සහිත සමාන්තර බිත්ති දෙකක් අතර T ආතතියක් සහිතව සවි කිරීමට කළ යුතු අවම කාර්ය ප්‍රමාණය වන්නේ,
 (1) $\frac{1}{2}T(d-l_0)$ (2) $\frac{Td}{l_0}$ (3) $T(d-l_0)$ (4) $\frac{1}{2} \frac{T}{(d-l_0)}$ (5) $\frac{1}{2} \frac{(d-l_0)^2}{T}$
 5. 27°C හි පවතින පරිපූර්ණ වායුවක් භාජනයක් තුළ අඩංගු වී ඇත. වායුවේ උෂ්ණත්වය 127 °C දක්වා වැඩි කළහොත් 127 °C හි දී වායු පරමාණුවල මධ්‍යන්‍ය වාලක ශක්තිය
 27 °C හි දී වායු පරමාණුවල මධ්‍යන්‍ය වාලක ශක්තිය යන අනුපාතය වනුයේ
 (1) $\frac{127}{27}$ (2) $\frac{16}{9}$ (3) $\frac{4}{3}$ (4) $\frac{3}{4}$ (5) $\frac{27}{127}$
 6. A වස්තුවේ ස්කන්ධය B හි එම අගය මෙන් දෙගුණයකි. A හි උඩුගස් වීශිෂ්ට කාප ධාරිතාව B හි එම අගය මෙන් තුන් ගුණයකි. ඒවාට එක සමාන කාප ප්‍රමාණ සපයනු ලැබේ. A වස්තුවේ උෂ්ණත්වය ΔT වෙනස්කම බඳුන් වේ නම් B වස්තුව බඳුන්වන උෂ්ණත්ව වෙනස වන්නේ
 (1) $\frac{\Delta T}{2}$ (2) $\frac{2}{3}\Delta T$ (3) ΔT (4) $\frac{3}{2}\Delta T$ (5) $6\Delta T$
 7. ලේසර් ආලෝකය පිළිබඳව කර ඇති පහත සඳහන් ප්‍රකාශ සලකා බලන්න.
 (A) එක්කරා සංඛ්‍යාතයක් සහිත ලේසර් කදම්බයක ඇති ෆෝටෝනයක ශක්තිය, සාමාන්‍ය ආලෝක කදම්බයක ඇති, එම සංඛ්‍යාතයම සහිත ෆෝටෝනයක ශක්තියට වඩා වැඩි ය.
 (B) ලේසර් කදම්බයක් විදුරු ප්‍රිස්මයක් මගින් වර්තනය කළ නොහැක.
 (C) ලේසර් කදම්බයක සියලුම ෆෝටෝනවලට එකම ශක්තිය, එකම කලාව සහ එකම දිශාව ඇත.
 ඉහත ප්‍රකාශ අතුරෙන්
 (1) (B) පමණක් සත්‍ය වේ. (2) (C) පමණක් සත්‍ය වේ.
 (3) (A) සහ (B) පමණක් සත්‍ය වේ. (4) (B) සහ (C) පමණක් සත්‍ය වේ.
 (5) (A), (B) සහ (C) යන සියල්ල ම සත්‍ය වේ.

8. සෝනාරාට් වැඩබිමක සෝනා මට්ටම 90 dB වේ. මෙය එතරම් අපහසු නොවන 70 dB මට්ටමක් දක්වා අඩු කරන ලදී. සෝනාවේ නව තීව්‍රතාව යන අනුපාතය සමාන වනුයේ සෝනාවේ පැරණි තීව්‍රතාව

- (1) 0.9 (2) 0.5 (3) 0.1 (4) 0.01 (5) 0.001

9. විදුරු ප්‍රිස්මයක් මතට එකවරණ ආලෝක කිරණක් පතිත වී ප්‍රිස්මය තුළින් ගමන් කරන විට අවම අපගමනයට බදුන් වේ. නිර්ගත කිරණය පසු කර යෑමට වඩාත් ම ඉඩ ඇති ලක්ෂ්‍යය වන්නේ



- (1) A (2) B (3) C
(4) D (5) E

10. විද්‍යුත් ක්ෂේත්‍ර රේඛා පිළිබඳව කර ඇති පහත කුමන ප්‍රකාශය අසත්‍ය ද?

- (1) විද්‍යුත් ක්ෂේත්‍ර රේඛා සරල රේඛීය හෝ වක්‍රාකාර විය හැක.
(2) විද්‍යුත් ක්ෂේත්‍ර රේඛා එකිනෙකට සමාන්තර විය හැක.
(3) විද්‍යුත් ක්ෂේත්‍ර රේඛා මගින් සංවෘත පුඩු පෑදිය හැක.
(4) විද්‍යුත් ක්ෂේත්‍ර රේඛා ධන ආරෝපණවලින් පටන්ගෙන සෑණ ආරෝපණවලින් අවසන් වේ.
(5) විද්‍යුත් ක්ෂේත්‍ර රේඛා කිසිවිටෙකත් එකිනෙකින් කැපී යා නොහැක.

11. ගෝලීය ගවුස් පෘෂ්ඨයක් q ලක්ෂ්‍යයීය ආරෝපණයක් වටා ඇත. පද්ධතියට පහත සඳහන් වෙනස්කම් කරන ලදී.

- (A) ආරෝපණයේ විශාලත්වය තෙගුණ කරන ලදී.
(B) ගෝලීය ගවුස් පෘෂ්ඨයේ අරය දෙගුණ කරන ලදී.
(C) ගෝලීය ගවුස් පෘෂ්ඨය සතකයක පෘෂ්ඨයකට වෙනස් කරන ලදී.
(D) ආරෝපණය පෘෂ්ඨය ඇතුළත වෙනත් පිහිටුමකට රැගෙන යන ලදී.
ඉහත සඳහන් වෙනස්කම් අතුරින් පෘෂ්ඨය හරහා සඵල විද්‍යුත් ප්‍රාවය වෙනස් වන්නේ
(1) (A) හි පමණි. (2) (A) සහ (B) හි පමණි. (3) (C) සහ (D) හි පමණි.
(4) (A), (B) සහ (D) හි පමණි. (5) (A), (B), (C) සහ (D) යන සියල්ලෙහි ම ය.

12. ප්‍රාථමික පෑන්තේ $V_p = 12.0$ kV ac සහිතව ක්‍රියාත්මක වන පරිපූර්ණ පරිණාමකයක් එය සම්පයේ ඇති නිවෙස් සමූහයකට

$V_s = 240$ V, ac සහිතව විදුලිය සපයයි. පරිණාමකයේ වට අනුපාතය, $\frac{\text{ප්‍රාථමිකයේ වට සංඛ්‍යාව}}{\text{ද්විතීකයේ වට සංඛ්‍යාව}}$ වන්නේ.

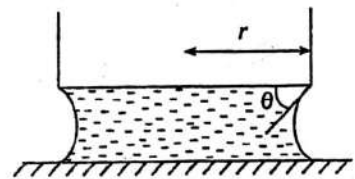
- (1) 0.02 (2) 0.2 (3) 25 (4) 50 (5) 100

13. තඹ කම්බි දෙකක පරිමාව එකම වන නමුත් 2 වන කම්බිය 1 වන කම්බියට වඩා 20% කින් දිග වැඩිය.

$\frac{2 \text{ කම්බියේ ප්‍රතිරෝධය}}{1 \text{ කම්බියේ ප්‍රතිරෝධය}}$ යන අනුපාතය වන්නේ

- (1) 0.83 (2) 0.91 (3) 1.11 (4) 1.20 (5) 1.44

14. රූපයේ පෙන්වා ඇති පරිදි පිලිත්වරාකාර බෝතලයක පතුල සහ විදුරු තහවුරු කර ජල තව්වුවක් පවතී. බෝතලයේ පතුලේ අරය r වේ. බෝතලය සෙමින් ඉහළට ඔසවන විට, එක්තරා මොහොතකදී ජලය සහ බෝතල පතුල අතර ස්පර්ශ කෝණය θ වේ. (රූපය බලන්න.) එම මොහොතේදී බෝතලයේ පතුල මත ජලයේ පෘෂ්ඨික ආතතිය T නිසා ඇතිවන බලයේ විශාලත්වය වන්නේ

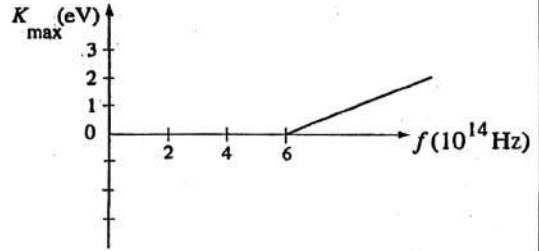


- (1) $2\pi r T \sin \theta$ (2) $2\pi r T \cos \theta$ (3) $\pi r^2 T \sin \theta$
(4) $\pi r^2 T \cos \theta$ (5) $4\pi r T \sin \theta$

15. වස්තුවක් මගින් විකිරණ ශක්තිය නිකුත් කිරීමේ ශීඝ්‍රතාව පිළිබඳව පහත සඳහන් කුමක් අසත්‍ය වේ ද?

- (1) එය වස්තුවේ පෘෂ්ඨික වර්ගඵලයට සමානුපාතිකය.
(2) එය වස්තුවේ නිරපේක්ෂ උෂ්ණත්වයේ 4 වන බලයට සමානුපාතිකය.
(3) එය වස්තුවේ පෘෂ්ඨයෙහි විමෝචකතාවට සමානුපාතිකය.
(4) එය පරිසර උෂ්ණත්වය මත රඳ පවතී.
(5) එය වස්තුවේ තාප ධාරිතාව මත රඳ නොපවතී.

16. පහත විකිරණයේ සංඛ්‍යාතය (f) සමග ලෝහයකින් විමෝචනය වන ප්‍රකාශ ඉලෙක්ට්‍රෝනවල උපරිම වාලක ශක්තියේ (K_{max}) විචලනය ප්‍රස්ථාරයේ පෙන්වා ඇත. ලෝහයේ කාර්ය ශ්‍රිතය වන්නේ
- (1) 6.0 eV
 - (2) 4.0 eV
 - (3) 2.5 eV
 - (4) 2.0 eV
 - (5) 1.0 eV

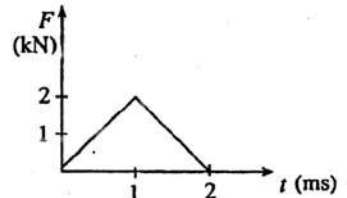


17. අයඩින් හි විකිරණශීලී සමස්ථානිකයක් වන $^{131}_{53}\text{I}$, $^{131}_{54}\text{Xe}$ බවට ක්ෂය වේ. මෙම ක්ෂයවීමේදී කුමන වර්ගයේ අංශුවක් විමෝචනය වන්නේ ද?
- (1) α
 - (2) β^-
 - (3) β^+
 - (4) p
 - (5) n

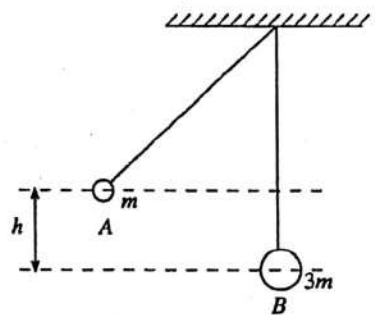
18. මාන විශ්ලේෂණය මගින් ලබාගත හැකි තොරතුරු පිළිබඳව කර ඇති පහත ප්‍රකාශ සලකා බලන්න.
- (A) භෞතික සමීකරණයක පැවතිය හැකි සමානුපාතික නියතවල සංඛ්‍යාත්මක අගයන් මාන විශ්ලේෂණය මගින් නිර්ණය කළ හැක.
- (B) භෞතික සමීකරණයක පැවතිය හැකි සමානුපාතික නියතවල සංඛ්‍යාත්මක ලකුණු මාන විශ්ලේෂණය මගින් නිර්ණය කළ හැක.
- (C) භෞතික සමීකරණයක පැවතිය හැකි සමානුපාතික නියතවල ඒකක මාන විශ්ලේෂණය මගින් නිර්ණය කළ හැක.
- ඉහත ප්‍රකාශ අතුරෙන්
- (1) (A) පමණක් සත්‍ය වේ.
 - (2) (B) පමණක් සත්‍ය වේ.
 - (3) (C) පමණක් සත්‍ය වේ.
 - (4) (B) සහ (C) පමණක් සත්‍ය වේ.
 - (5) (A), (B) සහ (C) යන සියල්ල ම සත්‍ය වේ.

19. සත්ත්වයන් d_1 , d_2 සහ d_3 වන ද්‍රව තුනක සමාන ස්කන්ධ එකට එකතු කරන ලදී. කිසියම් හෝ ආකාරයක වෙනස්වීමක් සිදුනොවී ද්‍රව මිශ්‍ර වූයේ නම් සංයුක්ත ද්‍රවයේ සත්ත්වය වන්නේ,
- (1) $\frac{d_1 + d_2 + d_3}{3}$
 - (2) $\frac{d_1 d_2 d_3}{3}$
 - (3) $\frac{3d_1 d_2 d_3}{d_1 d_2 + d_2 d_3 + d_3 d_1}$
 - (4) $\frac{d_1 d_2 + d_2 d_3 + d_3 d_1}{3}$
 - (5) $\frac{d_1 d_2 d_3}{d_1 d_2 + d_2 d_3 + d_3 d_1}$

20. ආරම්භයේදී නිසලතාවයේ පවතින ස්කන්ධය 0.5 kg වන බෝලයකට පිත්තකින් පහර දෙයි. කාලය (t) සමග බෝලය මත බලයේ (F) විචලනය රූපයේ පෙන්වා ඇත. පිත්තෙන් ඉවත් වන විට බෝලයේ වේගය වනුයේ,
- (1) 10 ms^{-1}
 - (2) 8 ms^{-1}
 - (3) 6 ms^{-1}
 - (4) 4 ms^{-1}
 - (5) 2 ms^{-1}

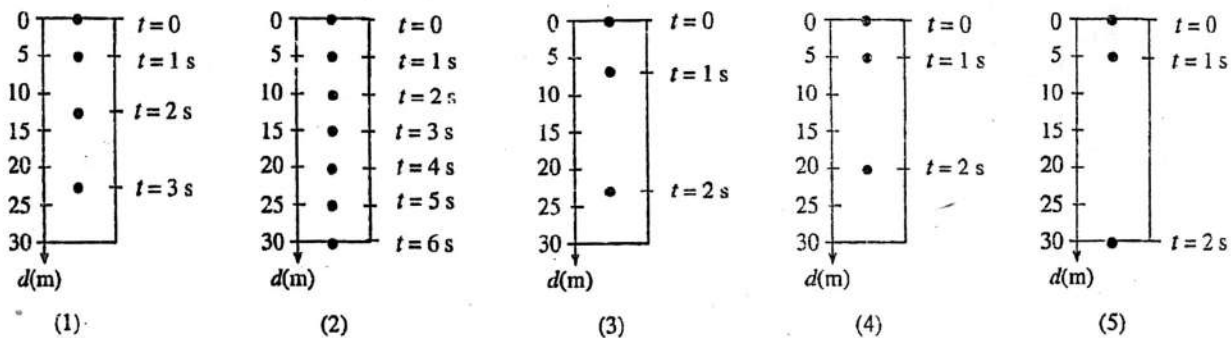


21. පිළිවෙළින් ස්කන්ධ m සහ $3m$ වන A සහ B කුඩා පොට් ගෝල දෙකක් එක සමාන දිගක් සහිත තන්තු මගින් සිවිලිමක එල්වා ඇත. පෙන්වා ඇති අයුරින් A ගෝලය h උසකට ඔසවා තැබූ පරිදි පැත්තකට ඇද ඉන්පසු අත හරිනු ලැබේ. නිසලතාවයේ ඇති B ගෝලය සමග A ගෝලය ගැටී ඒවා එකට ඇල්. සංයුක්ත වස්තුව පැද්දී ඉහළට නැගෙන උපරිම උස වන්නේ,
- (1) $\frac{1}{16}h$
 - (2) $\frac{1}{8}h$
 - (3) $\frac{1}{4}h$
 - (4) $\frac{1}{3}h$
 - (5) $\frac{1}{2}h$

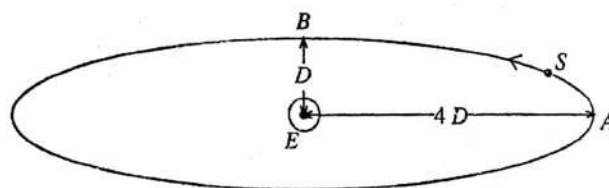


22. ස්කන්ධය m වූ මෝටර් රථයක් තිරස් සමතලා පාරක පිහිටි චක්‍රයා අරය r වූ වෘත්තාකාර වංගුවක් ව වේගයකින් හසුරුවයි. මෝටර් රථය ලිස්සා යයි නම් (μ යනු පාර සහ වයරයක් අතර සර්ෂණ සංගුණකයයි)
- (1) $v > \sqrt{\mu r g}$
 - (2) $v < \sqrt{\frac{\mu r g}{4}}$
 - (3) $v > \sqrt{\frac{\mu r g}{m}}$
 - (4) $v < \sqrt{\mu r m g}$
 - (5) $v > \sqrt{\frac{\mu m g}{r}}$

23. කාලය $t=0$ දී නිශ්චලතාවයේ සිට නිදහසේ පහළට වැටෙන වස්තුවක ඡායාරූප පළමුවෙන් $t=0$ දී සහ එයින් පසු එක් එක් තත්පරය අවසානයේදී ද කැමරාවක් ආධාරයෙන් ගනු ලැබේ. එක් එක් තත්පරය අවසානයේදී වස්තුවේ පිහිටීම නිරූපිතව දක්වන්නේ පහත දැක්වෙන කවර රූපසටහන මගින්ද? රූපසටහන්වල සිරස් අක්ෂය මගින් නිරූපණය වන්නේ වස්තුව ගමන් කළ දුර (d) ය.

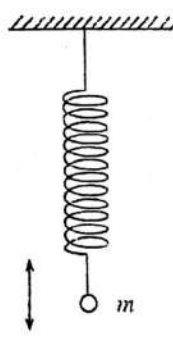


24. (S) චන්ද්‍රිකාවක් (E) පෘථිවිය වටා ඉලිප්සාකාර කක්ෂයක ගමන් කරයි. A ලක්ෂ්‍යයේදී චන්ද්‍රිකාවේ වේගය v නම් B ලක්ෂ්‍යයේදී එහි වේගය වනුයේ,



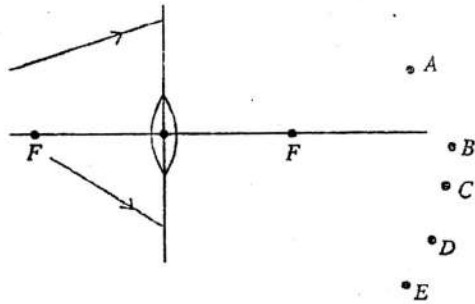
- (1) $\frac{v}{8}$
- (2) $\frac{v}{4}$
- (3) v
- (4) $2v$
- (5) $4v$

25. රූපයේ පෙන්වා ඇති පරිදි සැහැල්ලු දුන්නකට සම්බන්ධ කර ඇති, සරල අනුවර්තී චලිතයේ යෙදෙන m ස්කන්ධයක් සහිත අංශුවක් පිළිබඳව කර ඇති පහත ප්‍රකාශ සලකා බලන්න.




- (A) අංශුවේ ත්වරණය සෑම විටකම චලිතයේ කේන්ද්‍රය වෙතට වේ.
 - (B) අංශුව මත බලය කේන්ද්‍රයේ සිට ඇති විස්ථාපනයේ වර්ගයට සමානුපාතික වේ.
 - (C) දේලන කාලාවර්තය අංශුවේ ස්කන්ධය මත රඳා පවතී.
- ඉහත ප්‍රකාශවලින්,
- (1) (A) පමණක් සත්‍ය වේ.
 - (2) (C) පමණක් සත්‍ය වේ.
 - (3) (A) සහ (B) පමණක් සත්‍ය වේ.
 - (4) (A) සහ (C) පමණක් සත්‍ය වේ.
 - (5) (A), (B) සහ (C) යන සියල්ල ම සත්‍ය වේ.

26. රූපයේ පෙන්වා ඇති පරිදි තුනී අභිසාරී කාචයක් වෙතට පැමිණෙන කිරණ දෙකක් සලකා බලන්න. කාචය තුළින් ගමන් කළ පසු කිරණ දෙක හමුවීමට වඩාත් ම ඉඩ ඇති ලක්ෂ්‍යය වන්නේ



- (1) A
- (2) B
- (3) C
- (4) D
- (5) E

27. වාතයේ (A) සිට පාරදෘශ්‍ය මාධ්‍යයකට (T) ලම්බව පතිත වී ඒ හරහා සම්ප්‍රේෂණය වන ඒකවර්ණ ආලෝක කිරණක තරංග ආකාරයට පිළිවෙල වෙනස්වීම් රූපයේ පෙන්වා ඇත. පාරදෘශ්‍ය මාධ්‍යයේ වර්තනාංකය වන්නේ,



- (1) 1.5
- (2) 2.0
- (3) 2.5
- (4) 3.0
- (5) 3.5

34. උෂ්ණත්ව මිණුමක් සඳහා නිවැරදි අගයක් ලබා දීමට දී ඇති උෂ්ණත්වමානයකට ඇති හැකියාව පිළිබඳව කර ඇති පහත සඳහන් ප්‍රකාශ සලකා බලන්න.

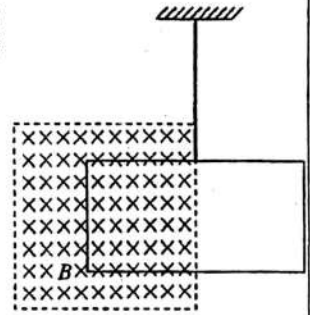
- (A) කාලයක් සමග ශීඝ්‍රලෙස වෙනස්වන උෂ්ණත්වයන් මිතිය යුතු අවස්ථාවල ඒ සඳහා දී ඇති උෂ්ණත්වමානය, උෂ්ණත්වය සමග උෂ්ණත්වමිතික ගුණය විශාල ලෙස වෙනස්වන ආකාරයේ එකක් විය යුතු ය.
- (B) උෂ්ණත්වය මිතිය යුතු පරිසරයේ තාපධාරිතාව හා සැසඳීමේදී උෂ්ණත්වමානයේ තාප ධාරිතාව නොගිණිය හැකි තරමේ විය යුතු ය.
- (C) උෂ්ණත්වමිතික ගුණයට උෂ්ණත්වය සමග රේඛීය විචලනයක් තිබිය යුතු ය.

ඉහත ප්‍රකාශ අතුරෙන්

- (1) (B) පමණක් සත්‍ය වේ. (2) (A) සහ (B) පමණක් සත්‍ය වේ.
- (3) (B) සහ (C) පමණක් සත්‍ය වේ. (4) (A) සහ (C) පමණක් සත්‍ය වේ.
- (5) (A), (B) සහ (C) යන සියල්ලම සත්‍ය වේ.

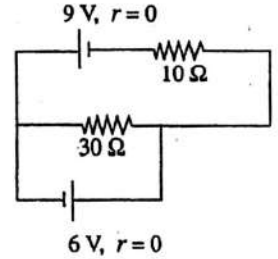
35. සැහැල්ලු සන්නායක පුඩුවක් නිදහසේ එල්වා ඇති අතර රූපයේ පෙන්වා ඇති පරිදි පුඩුවේ අර්ධයක් චුම්බක ක්ෂේත්‍රයක් තුළට ඇතුළුකොට ඇත. චුම්බක ක්ෂේත්‍රයේ ප්‍රබලතාව ශීඝ්‍රයෙන් වැඩිවීමට පටන් ගත්තේ නම්,

- (1) පුඩුව චුම්බක ක්ෂේත්‍රයේ දිශාවට ගමන් කිරීමට පටන් ගනී.
- (2) පුඩුව චුම්බක ක්ෂේත්‍රයේ දිශාවට විරුද්ධ දිශාවට ගමන් කිරීමට පටන් ගනී.
- (3) පුඩුව ක්ෂේත්‍රය තුළට, (වම් අතට) ගමන් කිරීමට පටන් ගනී.
- (4) පුඩුව ක්ෂේත්‍රයෙන් පිටතට, (දකුණු අතට) ගමන් කිරීමට පටන් ගනී.
- (5) පුඩුවේ කිසිදු චලනයක් ඇති නොවේ.



36. 10 Ω ප්‍රතිරෝධකය හරහා ධාරාව වන්නේ

- (1) 0
- (2) 1.5 A
- (3) 3.0 A
- (4) 5.0 A
- (5) 6.0 A

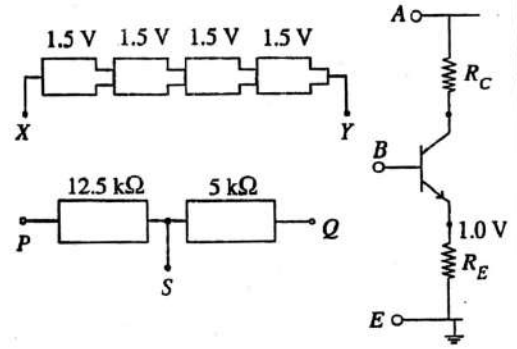


37. ලෝහ කම්බියකට θ_1 සහ θ_2 උෂ්ණත්වවලදී පිළිවෙළින් R_1 සහ R_2 ප්‍රතිරෝධ ඇත. ලෝහයේ ප්‍රතිරෝධකතාවයේ උෂ්ණත්ව සංගුණකය දෙනු ලබන්නේ

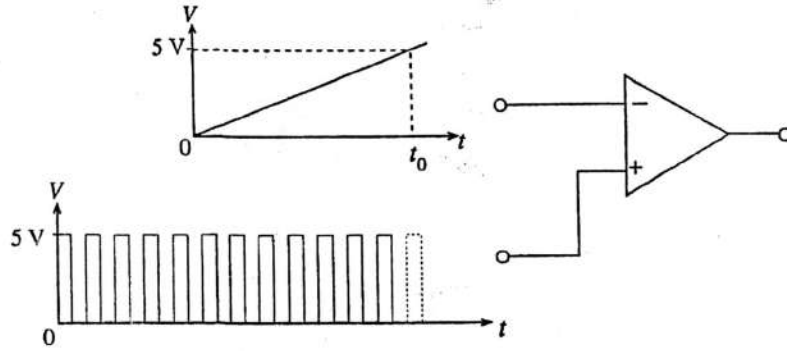
- (1) $\frac{(\theta_1 - \theta_2)}{(R_1 - R_2)}$ (2) $\frac{(R_1 - R_2)}{(\theta_1 - \theta_2)}$ (3) $\frac{(R_1 - R_2)}{(\theta_1 - \theta_2)(R_1 + R_2)}$
- (4) $\frac{(R_1 - R_2)}{(R_2\theta_1 - R_1\theta_2)}$ (5) $\frac{(R_2\theta_1 - R_1\theta_2)}{(R_1 - R_2)}$

38. රූපයේ පෙන්වා ඇති ව්‍යාන්ත්‍රයට (Si) පරිපථය පොදු විමෝචක වර්ධකයක් ලෙස ක්‍රියාත්මක කරවීමට පහත සඳහන් කවර සම්බන්ධ කිරීම් කළ යුතු ද?

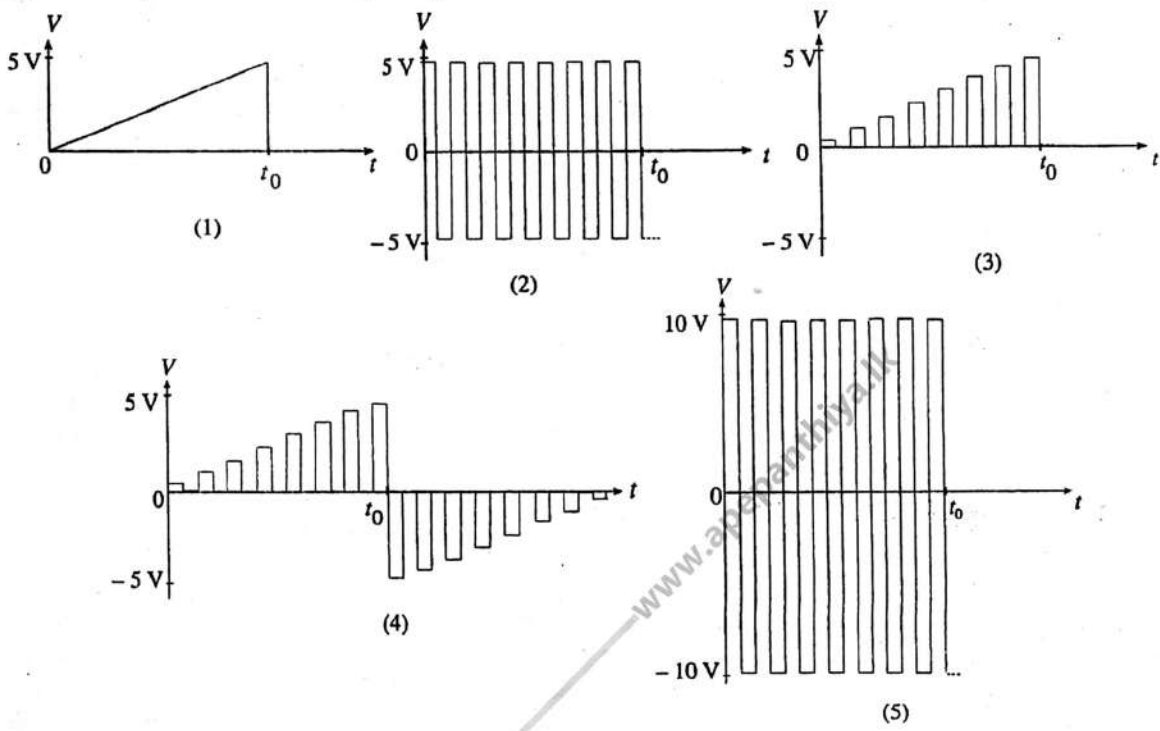
- (1) XE, YB, AP, BQ, SE
- (2) PA, YE, XP, BS, QE
- (3) SB, YA, AQ, BQ, SE
- (4) XE, YB, AQ, BP, SA
- (5) YA, XE, AP, BS, QE



39.



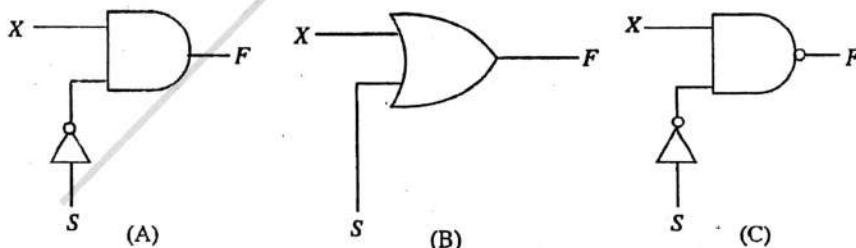
$\pm 10V$ ජව සැපයුම් වෝල්ටීයතාවෙන් ක්‍රියාත්මක වන 741 කාරකාත්මක වර්ධකයක අපවර්තන ප්‍රදානයට රූපයේ පෙන්වා ඇති පරිදි කාලය (t) සමඟ වෙනස් වන වෝල්ටීයතා සංඥාවක් ලබා දී ඇත. පෙන්වා ඇති පරිදි විස්තාරය 5V වූ සෘජුකෝණාස්‍රාකාර වෝල්ටීයතා තරංග ආකෘතියක් අපවර්තන නොවන ප්‍රදානයට යොදා ඇත. කාරකාත්මක වර්ධකයේ ප්‍රතිදාන තරංග ආකෘතිය වඩාත් හොඳින් නිරූපණය කරන්නේ



40. පෙන්වා ඇති කාරකික පරිපථයන්ගෙන් කවරක් පහත දක්වා ඇති ආකාරයට ක්‍රියා කරයි ද?

$S = 0$ වූ විට ප්‍රතිදානය $F = X$ (X හි අගය 0 හෝ 1 විය හැක.)

$S = 1$ වූ විට ප්‍රතිදානය $F = 0$ (X හි අගය කුමක් වුවත්)

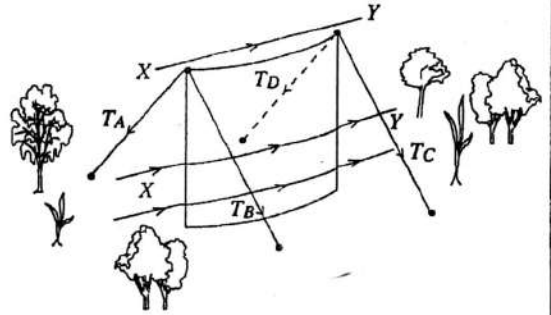


- (1) (A) පමණි.
- (2) (B) පමණි.
- (3) (C) පමණි.
- (4) (A) සහ (B) පමණි.
- (5) (B) සහ (C) පමණි.

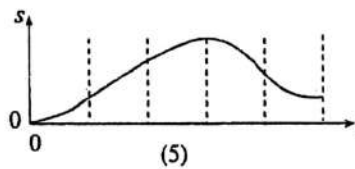
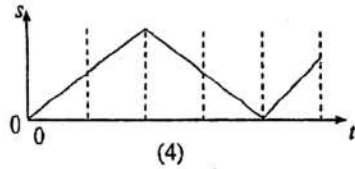
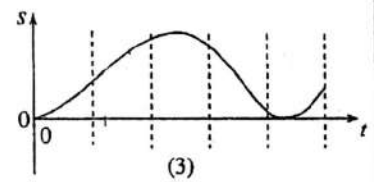
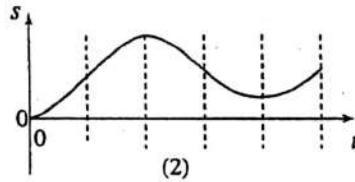
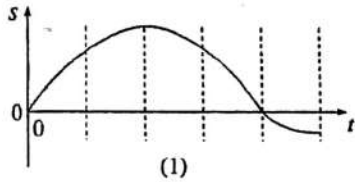
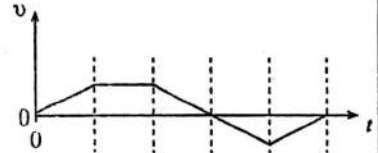
41. රූපයේ පෙන්වා ඇති ආකාරයට තමන ලද විශාල ලෝහ තහඩුවක් කෙළින් සිරස්ව පිහිටන ලෙස භූමිය මත තබා ඇත්තේ භූමියට සවිකරන ලද ඇදී කම් හතරක් මගිනි.

නිශ්චල වාතයේදී සෑම කම්යකම ආකෂිත T_A, T_B, T_C සහ T_D එක සමාන ය. XY දිශාවට තහඩුව හරහා සුළං හමා යන විට

- (1) $T_A < T_B$ සහ $T_D < T_C$
- (2) $T_A > T_B$ සහ $T_D > T_C$
- (3) $T_A = T_B$ සහ $T_C = T_D$
- (4) $T_A > T_B$ සහ $T_C > T_D$
- (5) $T_A < T_B$ සහ $T_C < T_D$



42. කාලය (t) සමඟ, අංශුවක ප්‍රවේගයේ (v) විචලනය රූපයේ පෙන්වා ඇත. අනුරූප විස්ථාපන (s) - කාල (t) චක්‍රය වඩාත්ම හොඳින් නිරූපණය වන්නේ,

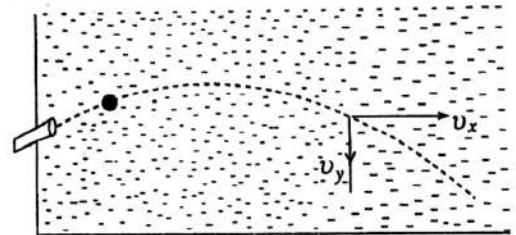


43. වාතනයක රෝදයක, එහි කේන්ද්‍රයේ සිට r දුරකින් වැලි කැටයක් ඇලී ඇත. රෝදයේ අරය R වේ. රෝදය ω කෝණික ප්‍රවේගයකින් භ්‍රමණය වන විට, හදිසියේ වැලි කැටය රෝදයෙන් ගැලවී යයි. වාත ප්‍රතිරෝධය නොසලකා හැරියහොත්, රෝදයෙන් ගැලවුණු වහාම වාතයට කාපේක්ෂී වැලි කැටයේ ප්‍රවේගයේ තිරස් සංරචකයට නිඛිල හැක්කේ,

- (1) 0 සහ $(R - r)\omega$ අතර අගයකි.
- (2) 0 සහ $(r + R)\omega$ අතර අගයකි.
- (3) 0 සහ $r\omega$ අතර අගයකි.
- (4) $-r\omega$ සහ $r\omega$ අතර අගයකි.
- (5) $(R - r)\omega$ සහ $(r + R)\omega$ අතර අගයකි.

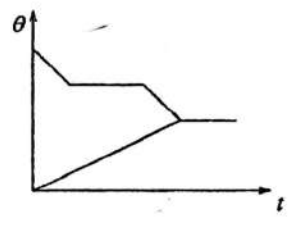
44. විශාල පිහිනුම් තටාකයක ජලය තුළ ඇති සෙල්ලම් තුවක්කුවකින් අරය a වූ ඊයම් බෝලයක් රූපයේ පෙන්වා ඇති පරිදි විදිනු ලැබේ. ජලයේ සහ ඊයම්වල ඝනත්ව පිළිවෙළින් ρ_w සහ ρ_{pb} වන අතර ජලයේ දුස්ස්‍රාවීතාව η වේ. එක්තරා මොහොතකදී බෝලයේ ප්‍රවේගයෙහි x සහ y සංරචකයන් පිළිවෙළින් v_x සහ v_y වේ නම් එම මොහොතේදී අනුරූප ක්වරණ සංරචකයන්ගේ විශාලත්ව වනුයේ,

- | | |
|--|---|
| x (සිරස්) | y (සිරස්) |
| (1) $\frac{9\eta v_x}{2a^2 \rho_{pb}}$ | $\left(1 - \frac{\rho_w}{\rho_{pb}}\right)g - \frac{9\eta v_y}{2a^2 \rho_{pb}}$ |
| (2) 0 | $\left(1 - \frac{\rho_w}{\rho_{pb}}\right)g - \frac{9\eta v_y}{2a^2 \rho_{pb}}$ |
| (3) $\frac{9\eta v_x}{2a^2 \rho_{pb}}$ | $\left(1 - \frac{\rho_w}{\rho_{pb}}\right)g$ |
| (4) $\frac{9\eta v_x}{2a^2 \rho_{pb}}$ | g |
| (5) 0 | $\left(1 - \frac{\rho_w}{\rho_{pb}}\right)g$ |



45. ශීත කරන ලද සිසිල් බිම සහිත විදුරු බෝතලයක් වායු ගෝලයේ තැබූ විට එහි පෘෂ්ඨය මත ජලය ඝනීභවනය වන බව පෙනේ. එය වායුගෝල උෂ්ණත්වයට පත්වීමට පෙර ඝනීභවනය වන සම්පූර්ණ ජල ප්‍රමාණය රඳා නොපවතින්නේ
- (1) ශීත කරන ලද සිසිල්බිම බෝතලයේ ආරම්භක උෂ්ණත්වය මත ය.
 - (2) සිසිල් බිම සහිත බෝතලයේ තාප ධාරිතාව මත ය.
 - (3) සිසිල් බිම සහිත බෝතලයේ උෂ්ණත්වය වැඩිවන ශීඝ්‍රතාව මත ය.
 - (4) වායු ගෝලයේ තුෂාර අංකය මත ය.
 - (5) විදුරුවල තාප සන්නායකතාව මත ය.

46. සර්වසම ස්කන්ධ සහිත ජලය සහ අයිස් ය්වල්ප ප්‍රමාණ තාප පරිවාරක බඳුනක් තුළට දමා තාප සමතුලිතතාවයට පත්වීමට ඉඩ හරිනු ලැබේ. කාලය (t) සමඟ ජලයේ සහ අයිස්වල උෂ්ණත්වයන්ගේ (θ) විචලන සටහන් කර ඒවා එකම ප්‍රස්ථාරයක පෙන්වා ඇත. දී ඇති ප්‍රස්ථාරය ඇසුරෙන් ජලය සහ අයිස්වල හැසිරීම පිළිබඳව නිගමනය කළ හැක්කේ පහත සඳහන් කුමක් ද?
- (1) ජලය සියල්ල ම මිදී ඇති අතර කිසිම අයිස් ප්‍රමාණයක් දිය වී නොමැත.
 - (2) ජලය කොටසක් මිදී ඇති අතර කිසිම අයිස් ප්‍රමාණයක් දිය වී නොමැත.
 - (3) ජලය කොටසක් මිදී ඇති අතර අයිස් සියල්ල ම දිය වී ඇත.
 - (4) ජලය සියල්ල මිදී ඇති අතර අයිස් සියල්ල ම දිය වී ඇත.
 - (5) ජලය සියල්ල මිදී ඇති අතර අයිස් කොටසක් දිය වී ඇත.



47.

A

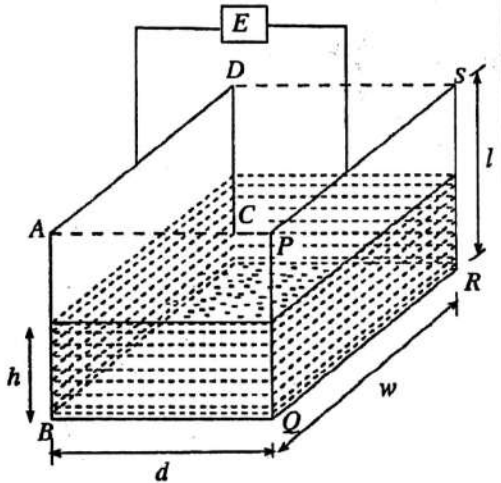
B

C

රූපවල පෙන්වා ඇති පරිදි A, B, සහ C යන සර්වසම තම්බි පුඩු තුනක් ඒකාකාර චුම්බක ක්ෂේත්‍රයක තබා ඇත. ක්ෂේත්‍රවල විශාලත්ව එකම ශීඝ්‍රතාවයකින් එක්කෝ වැඩි වේ, නැත්නම් අඩු වේ. A, B, සහ C පුඩුවල ප්‍රේෂිත ධාරාවල විශාලත්ව පිළිවෙළින් i_1, i_2 , සහ i_3 නම්

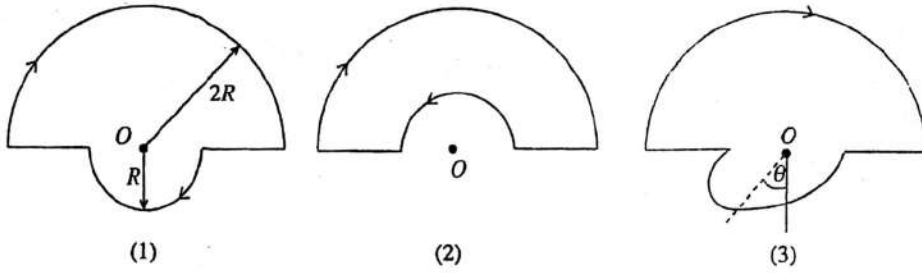
(1) $i_1 > i_2 > i_3$ (2) $i_1 < i_2 < i_3$ (3) $i_1 = i_2 = i_3$ (4) $i_1 = i_2; i_3 = 0$ (5) $i_1 = i_2 = i_3 = 0$

48. වැකියක ඇති ඉන්ධන මට්ටමේ උය නිර්ණය කර ගැනීම සඳහා රචයක ඇති ඉන්ධන - මානසක් සාප්පකෝණාස්‍රාකාර ලෝහ තහඩු දෙකකින් සැදී සමාන්තර තහඩු ධාරිත්‍රයක් භාවිත කරයි. එක් එක් ලෝහ තහඩුව ($ABCD$ හා $PQRS$) w පළලක් සහ l උසක් ඇත. තහඩු අතර ඇති ඉන්ධන මට්ටමේ උය h වේ. (රූපය බලන්න.) වායු සහ ඉන්ධන ධාරිත්‍රකවල සංයුක්තයේ සඵල ධාරිතාව සුදුසු ඉලෙක්ට්‍රෝනික පරිපථයක් (E) මගින් නිර්ණය කෙරේ. මෙම පද්ධතියේ සඵල ධාරිතාව දෙනු ලබන්නේ ($k =$ ඉන්ධනවල පාරවිද්‍යුත් නියතය)

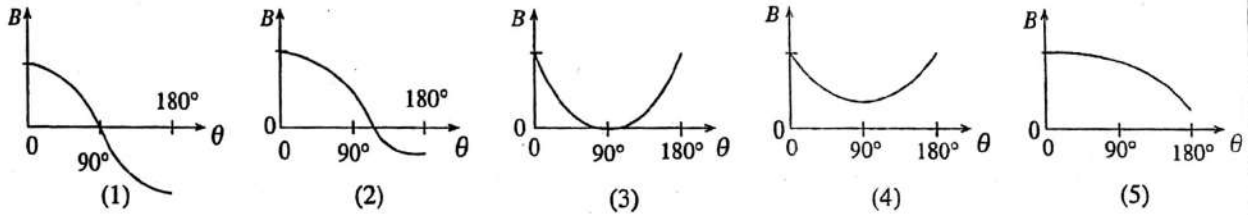


- (1) $\frac{w\epsilon_0}{d}[l+h(k-1)]$ (2) $\frac{(l-h)kh\epsilon_0w}{d[l+h(k-1)]}$
- (3) $\frac{w\epsilon_0}{2d}[l+h(k-1)]$ (4) $\frac{(l-h)kh\epsilon_0w}{2d[l+h(k-1)]}$
- (5) $\frac{k\epsilon_0lw}{d}$

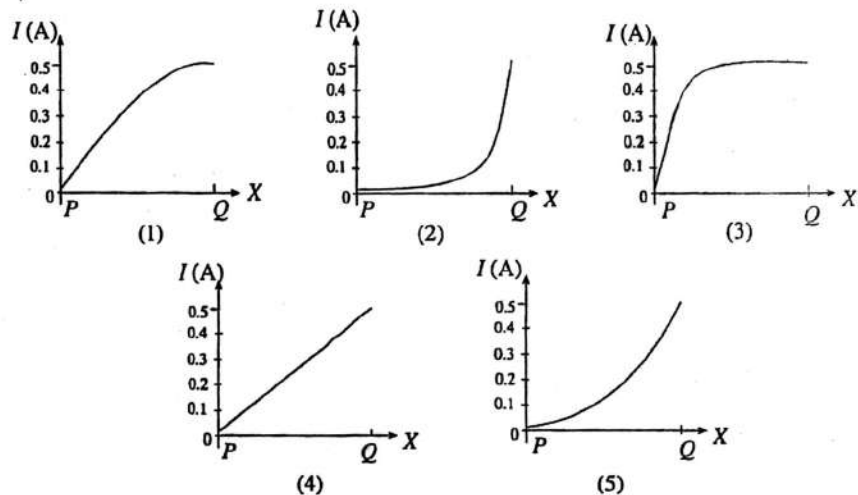
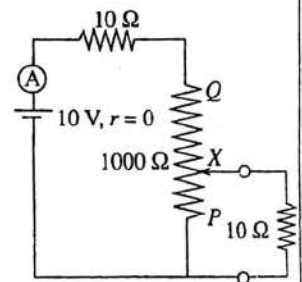
49.



අරයයන් $2R$ සහ R වන ඒක කෝණීය අර්ධ වෘත්ත දෙකකින් හා අරීය දිගවල් දෙකකින් සමන්විත ධාරාවක් d ගෙන යන (1) රූපයේ පෙන්වා ඇති කම්බි පුඩුව කඩදසියේ තලයේ පිහිටා ඇත. කුඩා අර්ධ වෘත්තය ක්‍රමයෙන් තලයෙන් ඉවතට නමන්නේ (2) රූපයේ පෙන්වා ඇති පරිදි පුඩුව උඩු අතට හැරවී නැවත මුළුමනින් ම එම තලයේම පිහිටන තෙක් ය. පුඩුව θ කෝණයකින් නමා ඇති අතරමැදි අවස්ථාවක් (3) රූපයේ පෙන්වා ඇත. පුඩුවේ කේන්ද්‍රයෙහි (O) වූම්බක ප්‍රාච සන්නවයෙහි කඩදසිය තුළට යොමුවී ඇති සංරචකය (B), θ කෝණය සමඟ විචලනය වන ආකාරය වඩාත්ම හොඳින් නිරූපණය වන්නේ



50. පෙන්වා ඇති පරිපථයේ PQ යනු 1000Ω , වන විචල්‍ය ප්‍රතිරෝධයකි. X අග්‍රය P සිට Q දක්වා චලනය කිරීමේදී P සහ X අතර ප්‍රතිරෝධය රේඛීයව වෙනස් වේ. X අග්‍රය P සිට Q දක්වා චලනය වන විට I ඇමීටර පාඨාංකය වෙනස්වන ආකාරය වඩාත් හොඳින් නිරූපණය කරන්නේ,



A කොටස - ව්‍යුහගත රචනා

ප්‍රශ්න හතරට ම පිළිතුරු මෙම පත්‍රයේ ම සපයන්න.
($g = 10 \text{ N kg}^{-1}$)

මේ විෂය
සිව්වස
හා සීමාව

1. අක්‍රමවත් හැඩයක් ඇති එහෙත් සුමට පෘෂ්ඨයක් සහිත ගලක ඝනත්වය නිවසෙහිදී පහත සඳහන් අයිතම උපයෝගී කර සෙවීමට ශිෂ්‍යයෙක් තීරණය කළේ ය.

සෘජුකෝණාස්‍රාකාර භාජනයක්

mm පරිමාණයක් සහිත 30 cm කෝදුවක් (අඩි කෝදුවක්)

ඔහුට පහත සඳහන් අයිතම භාවිත කිරීම සඳහා හැකියාවක් ද ඇති බව උපකල්පනය කරන්න.

ආසන්න 5 ml දක්වා ද්‍රව පරිමාවක් මිනිය හැකි නිවසේ භාවිත කරනු ලබන වීදුරු මිනුම් යරාවක් අසල වෙළඳසැලක ඇති ඉලෙක්ට්‍රොනික තුලාවක්

(a) 30 cm කෝදුව භාවිත කර සෘජුකෝණාස්‍රාකාර භාජනයේ පරිමාව සෙවීමෙන් ඔහු පරීක්ෂණය ආරම්භ කළේ ය.

(i) ඒ සඳහා ඔහු විසින් ගතයුතු මිනුම් මොනවා ද?

(1) (x_1 යැයි සිතමු.)

(2) (x_2 යැයි සිතමු.)

(3) (x_3 යැයි සිතමු.)

(ii) ඉහත සඳහන් මිනුම් තුන ගැනීමට සාමාන්‍ය 30 cm කෝදුවක් (අඩි කෝදුවක්) භාවිත කිරීමේදී ඉන් එක් මිනුමක නිරවද්‍යතාවය අඩු විය හැක.

එම මිනුම කුමක් ද?

එයට හේතුව කුමක් ද?

(b) ඉන් පසු ඔහු ගල හොඳින් සෝදා, වියළා, (1) රූපයේ පෙනෙන පරිදි භාජනය තුළ තැබුවේය. ඉන් අනතුරුව ඔහු මිනුම් යරාව භාවිත කර මනින ලද ජල ප්‍රමාණයකින් භාජනයේ ඉතිරි පරිමාව එහි කට දක්වා පිරවූයේ ය. එසේ මැන එකතුකරන ලද ජලයේ පරිමාව V යැයි සිතමු.



(1) රූපය

(i) ගලෙහි පරිමාව V_0 සඳහා V , x_1 , x_2 සහ x_3 ඇසුරෙන් ප්‍රකාශනයක් ලියා දක්වන්න.

$V_0 =$

(ii) එකම පරිමාව සහිත එහෙත් පටු කටකින් යුත් (2) රූපයේ පෙන්වා ඇති ආකාරයේ භාජනයක් තෝරා ගැනීමට ඔහුට හැකියාවක් ඇතිනම් මෙම පරීක්ෂණය සඳහා එවැනි භාජනයක් තෝරා ගැනීම වාසිදායක වන්නේ ඇයි දැයි පැහැදිලි කරන්න.



(2) රූපය

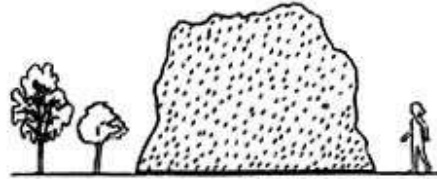
(c) (i) ගලෙහි ඝනත්වය සෙවීම සඳහා ඔහු විසින් ගතයුතු අනෙක් මිනුම කුමක් ද?

..... (P යැයි සිතමු.)

(ii) එනමින් ඉහත අර්ථ දක්වා ඇති සංකේත ඇසුරෙන් ගලෙහි ඝනත්වය (d_0) සඳහා ප්‍රකාශනයක් ලියා දක්වන්න.

$d_0 =$

(d) ඉහත පරීක්ෂණයෙන් ඔබ ලද දැනුම භාවිත කර (3) රූපයේ පෙන්වා ඇති සම්කලා පොළොවක් මත පිහිටා ඇති විශාල ගලක ස්කන්ධය නිමානනය කිරීමට ඔබට අවශ්‍ය යැයි සිතන්න. දන්නා ඕනෑම පරිමාවක් සහිත ලී පෙට්ටි සෑදීමේ සහ දන්නා ප්‍රමාණයන්ගෙන් යුත් ලී ව්‍යුහයන් සෑදීමේ හැකියාවක් සහ ඒ සඳහා අවශ්‍ය ද්‍රව්‍ය ඔබට ඇති බවත් ජලය වෙනුවට පිහිත් වැලි අවශ්‍ය කරමි ප්‍රමාණයක් ඇති බවත් උපකල්පනය කරන්න.



(3) රූපය

මේ රූපය කිරීමට ඔබ විශ්‍යය

(i) ගලෙහි පරිමාව සෙවීම සඳහා ඔබ යෝජනා කරන ක්‍රමයක ප්‍රධාන පියවර ලියා දක්වන්න.

.....

.....

.....

(ii) ඉහත (d) යටතේ දී ඇති ද්‍රව්‍ය භාවිත කර වැලි පරිමාව මැනීම සඳහා කුමන ආකාරයේ මිනුම් උපකරණයක් තනා ගත හැකිද?

.....

(iii) ගලෙහි ස්කන්ධය නිමානනය කිරීම සඳහා අවශ්‍ය අනෙක් භෞතික රාශිය කුමක් ද?

.....

(iv) ඉහත (d) (iii) හි දැක්වූ රාශිය මැනීම සඳහා ක්‍රමයක් යෝජනා කරන්න.

.....

.....

2. මිශ්‍රණ ක්‍රමය භාවිත කර අයිස් හි විචල්‍යතාවේ විශිෂ්ට ගුණක තාපයෙහි අගය $3.3 \times 10^5 \text{ J kg}^{-1}$ බව සත්‍යාපනය කිරීම සඳහා පරීක්ෂණයක් පිළි කිරීමට ඔබට නියමිත ඇත. ඒ සඳහා ඔබට දී ඇති අයිතමයන්ගෙන් සම්හරණ් පහත දැක්වා ඇත.

- (1) තම් කැලරිමීටරයක්
- (2) 45°C දක්වා රත්කරන ලද ජලය සහිත බීකරයක්
- (3) අයිස් කුට්ටියක්

(a) මෙම පරීක්ෂණය පිළිකිරීම සඳහා අවශ්‍ය අනෙක් අයිතම ලැයිස්තු ගත කරන්න.

.....

.....

(b) මෙම පරීක්ෂණය පිළි කිරීමේදී පරිසරයෙන් අවශෝෂණය වන තාපය අවම කරගැනීම සඳහා ඔබ ගන්නා පියවර මොනවා ද?

.....

.....

.....

(c) කාමර උෂ්ණත්වය 30°C සහ වායුගෝලයේ කුෂාර අංකය 25°C නම්,

(i) ජලයේ ආරම්භක උෂ්ණත්වය සඳහා ඔබ යෝජනා කරන්නේ කුමන අගයක් ද? :

(ii) ජලයේ අවම උෂ්ණත්වය සඳහා ඔබ යෝජනා කරන්නේ කුමන අගයක් ද? :

ඔබේ පිළිතුරට හේතු දක්වන්න.

.....

.....

(d) අයිස් එකතු කිරීමට පෙර මධ්‍ය ලබාගන්නා සියලුම පරීක්ෂණාත්මක මිනුම් ලැයිස්තුගත කරන්න.

.....

(e) අයිස් සුදුනම් කිරීමේදී, ජලයට එය එකතු කිරීමේදී සහ මිශ්‍ර කිරීමේදී ඔබ අනුගමනය කරන ක්‍රියා පිළිවෙල කුමක් ද?

සුදුනම් කිරීම :

එකතු කිරීම :

මිශ්‍ර කිරීම :

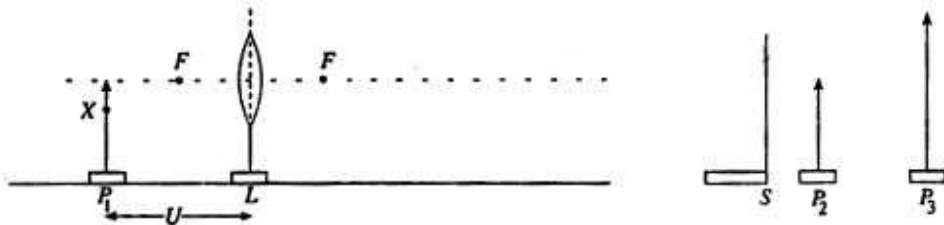
(f) අයිස් එකතු කිරීමෙන් පසු මධ්‍යගත ඉතිරි පරීක්ෂණාත්මක මිනුම් සඳහන් කරන්න.

.....

(g) මෙම පරීක්ෂණයේදී අයිස් හි ස්කන්ධය සොයාගැනීම සඳහා භාවිත වන මිනුම් වඩා ප්‍රවේශමෙන් සහ නිවැරදි ලෙස ගත යුතුව ඇත. මෙයට හේතුව පැහැදිලි කරන්න.

.....

3. සුදුසු ප්‍රස්ථාරයක් ඇඳීම මගින් ආව සුත්‍රය සත්‍යාපනය කොට උත්තල කාචයක නාභීය දුර නිර්ණය කිරීමට ඔබට නියමව ඇත. ඒ සඳහා භාවිත කළ හැකි අර්ධ වශයෙන් සකසන ලද ඇටවුමක් පහත රූපයේ පෙන්වා ඇත. U යනු වස්තු දුරයි. P_1 වස්තු කුර, L කාචය, නිවේෂණ කුරු (P_2 සහ P_3 ; එකක් කෙටි සහ අනෙක දිගු) සහ S සුදු කඩ තිරයක් ඔබට සපයා ඇත.



(a) P_1 මත ලකුණු කොට ඇති X උත්තලයේ පිට පැමිණෙන ආලෝක කිරණ දෙකක් සැලකිල්ලට ගනිමින් P_1 වස්තු කුරෙහි ප්‍රතිබිම්බය නිශ්චය කර ගැනීමට සුදුසු කිරණ සටහනක් අඳින්න.

(b) (i) S කඩ තිරය ඉහත රූපයේ සුදුසු ස්ථානයක අඳින්න.

(ii) ඔබ අඳින ලද ස්ථානයේ S කැබිමට ඇති අවශ්‍යතාව කුමක් ද?

.....

(c) (i) P_1 වස්තු කුරෙහි ප්‍රතිබිම්බ දුර (V) නිර්ණය කර ගැනීම සඳහා P_2 නිවේෂණ කුර භාවිත කළ යුතු අතර ඔබේ ඇස සුදුසු ස්ථානයක තැබිය යුතුය. ඉහත රූපයේ මෙම ස්ථානය E ලෙස නම් කරන්න.

(ii) P_1 හි ප්‍රතිබිම්බය P_2 හා සමඟ සම්පාත වී ඇති බව සාක්ෂාත් කර ගන්නේ කෙසේ ද?

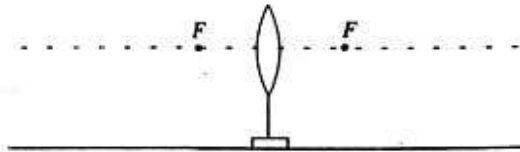
.....

මේ චරිත
 සිවුපස්
 ගා මුහුණ

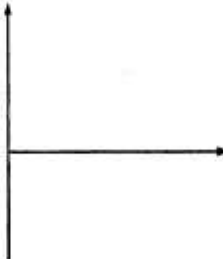


(d) අනාවරිත ප්‍රතිබිම්බ සමග ද පාඨාංක කිහිපයක් ගැනීමට ඔබට අවශ්‍යව ඇතැයි සිතන්න. එවැනි පාඨාංකයක් ගැනීම සඳහා වස්තු කුර සහ නිවේෂණ කුර පහත රූපයේ සුදුසු ස්ථානවල ඇඳ එවා P_1, P_2 හෝ P_3 ලෙස නම් කරන්න. (ඒවා නිශ්චිත ස්ථානවලට පිහිටුවීම අවශ්‍ය නැත.)

මේ අංශය විවෘත කොට දැක්වේ.



(e) (i) ඔබට ලැබේදැයි බලාපොරොත්තු වන ප්‍රස්ථාරයක් පහත ජාලයේ අඳින්න. ඔබගේ ප්‍රස්ථාරයේ තාත්වික ප්‍රතිබිම්බ මෙන්ම අනාවරිත ප්‍රතිබිම්බ සඳහා ද දත්ත ලක්ෂණයන් අඩංගු විය යුතු ය. අක්ෂ නම් කරන්න.



(ii) ප්‍රස්ථාරයේ අපේක්ෂිත අනුක්‍රමණය කොපමණ ද?
.....

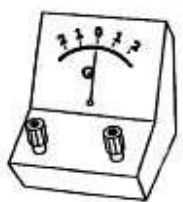
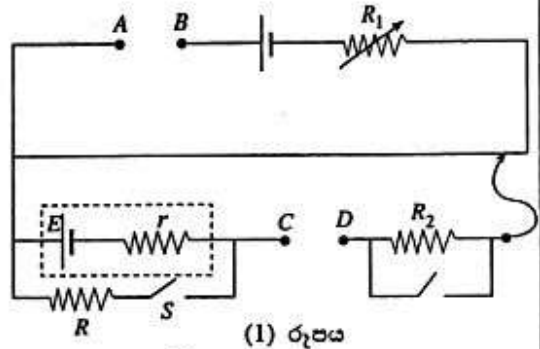
(iii) ඔබ ප්‍රස්ථාරයෙන් කාචයේ නාභිය දුර නිර්ණය කරගන්නේ කෙසේ ද?
.....

(f) තාත්වික ප්‍රතිබිම්බ සඳහා එක් U සහ V අගයයන් යුගලයක් ලබාගත් විට ප්‍රස්ථාරයේ දත්ත ලක්ෂණයන් දෙකක් සලකුණු කළ හැකි බව ශිෂ්‍යයෙක් පවසයි. ඔබ මෙයට එකඟ ද? ඔබගේ පිළිතුරට හේතු දෙන්න.

.....
.....

4. ශෝෂයක අනන්තර ප්‍රතිරෝධය මැනීම සඳහා භාවිත කෙරෙන විභවමාන සැකසුමක අසම්පූර්ණ රූපසටහනක්

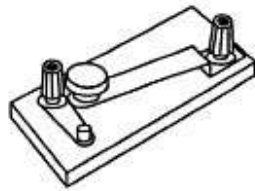
- (1) රූපයේ පෙන්වා ඇත.
- (ii) මෙම පරීක්ෂණය සිදුකිරීම සඳහා (1) රූපයේ පෙන්වා ඇති සංකේතයන්ට අදාළ අයිතමවලට අමතරව ඔබට (2) රූපයේ පෙන්වා ඇති අයිතම ද සපයා ඇත්තේ.




(1) අයිතමය



(2) අයිතමය



(3) අයිතමය



(4) අයිතමය

(2) රූපය

(i) AB අතරට ඔබ සම්බන්ධ කරන්නේ කුමන අයිතමය ද?

(ii) CD අතරට ඔබ සම්බන්ධ කරන්නේ කුමන අයිතමය ද?

(b) මෙම පරීක්ෂණයේදී උපකරණ නිසි ලෙස සකස් කිරීමෙන් අනතුරුව, සංතුලන දිගවල් දෙකේ ලබා ගත යුතු ය. ඒ මොනවා ද?

- (i)
- (ii)

(c) ශිෂ්‍යයකු ලබාගත් සංතුලන දිගවල් 90 cm සහ 80 cm නම්, r ගණනය කරන්න. (මෙම ඡිත්‍රම ගැනීමේදී R හි අගය 5 Ω විය.)

.....

.....

.....

.....

.....

(d) උපරිම නිරවද්‍යතාවයක් සඳහා හැකි විශාලතම සංතුලන දිගවල් ලබාදෙන ආකාරයට විභවමානය පිරුමාරු කළ යුතුය.

(i) ඉහත (b) හි සඳහන් සංතුලන දිගවල් දෙකේ කුමක් මේ පිරුමාරු කිරීම සඳහා භාවිත කළ යුතු ද? ඔබේ පිළිතුරට හේතු දෙන්න.

.....

.....

(ii) කුමන අයිතමය මගින් මෙම පිරුමාරුව සිදුකරනු ලබන්නේ ද?

.....

(e) ඉහත (b) යටතේ ඡිත්‍රම ලබාගැනීමේදී 5 Ω ට වඩා බොහෝ සෙයින් විශාල R අගයක් පරිපථයේ භාවිත කළේ නම්, r සඳහා ඔබ අපේක්ෂා කරන්නේ වඩා වැඩි නිරවද්‍ය අගයක් ද? වඩා අඩු නිරවද්‍ය අගයක් ද? ඔබේ පිළිතුරට හේතු දක්වන්න.

.....

.....

.....

**

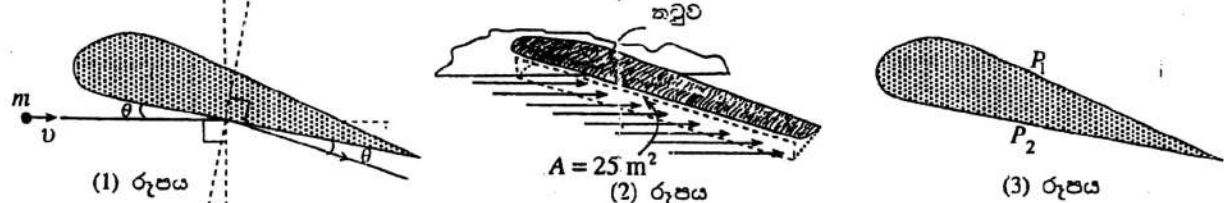


භෞතික විද්‍යාව II
 பொளதிகவியல் II
 Physics II

01 S II

B කොටස - රචනා
 ප්‍රශ්න හතරකට පමණක් පිළිතුරු සපයන්න
 ($g = 10 \text{ N kg}^{-1}$)

5. ඉවත් යානයක් ඉවත්ගත කිරීමට අවශ්‍ය වන එය මත සිරස් දිශාවට ක්‍රියා කරන එසවුම් බලය (lift) බල දෙකක් මගින් ලබා දෙයි. එක් බලයක් බ'නුලී ආවරණය නිසා ඇති වන අතර අනෙක වායු අණු ඉවත් යානයේ තවු මත ගැටීම නිසා ඇති වේ. ඉවත් යානයක් ඉවත්ගත කිරීම සඳහා ධාවන පථය මස්සේ ගමන් කරන විට ඉවත් යානයේ තවු වක දිශානතිය සහ එහි හරස්කඩ පෙනුම (1) රූපයේ දක්වා ඇත. මෙහි දී තවුවේ පහළ පෘෂ්ඨය සිරස් දිශාව සමඟ θ කෝණයක් සාදයි.



(a) පොළොවට සාපේක්ෂව වායු අණු නියඟව පවතින බව උපකල්පනය කර කිසියම් අවස්ථාවක දී ඉවත් යානයේ වේගය $v \text{ (ms}^{-1}\text{)}$ ලෙස ගන්න. එක් එක් වායු අණුවට m එක ම ස්කන්ධයක් ඇති බව ද උපකල්පනය කරන්න. එක් වායු අණුවක් තවු ව සමඟ සිදු කරන පරිපූර්ණ ප්‍රකාශයේ සංඝට්ටනයක් සලකන්න. [(1) රූපය බලන්න.] ඉවත් යානයට සාපේක්ෂව වායු අණුවේ වේගය රූපයේ පෙන්වා ඇත.

- (i) තවුවේ පහළ පෘෂ්ඨයට ලම්බක දිශාව මස්සේ වායු අණුවේ ගමනා වේගය සඳහා ප්‍රකාශනයක් m, v සහ θ ඇසුරෙන් ලියන්න.
- (ii) තත්පරයක කාලයක් තුළ දී තවුවේ ගැටෙන වායු අණු සංඛ්‍යාව N නම් ඉහත (a) (i) ප්‍රතිඵලය භාවිතයෙන් අණු සංඝට්ටන නිසා තවු ව මත ජනනය වන සිරස් බලය සඳහා ප්‍රකාශනයක් $m, v, \theta,$ සහ N ඇසුරෙන් ලබා ගන්න.

(b) ඉවත් යානය ගමන් කරන විට, එහි තවුවක් A සඵල හරස්කඩ වර්ගඵලයක් පිස දමනු ලබන අතර [(2) රූපය] එමනිසා තත්පර එකක කාල අන්තරයක් තුළ දී AV පරිමාවක ඇති වායු අණු තවුවේ ගැටේ. වාතයේ ඝනත්වය d ලෙස සලකන්න.

- (i) තත්පර එකක් තුළ දී තවුවේ ගැටෙන වායු අණුවල මුළු ස්කන්ධය A, v සහ d ඇසුරෙන් ලියා දක්වන්න.
- (ii) එකයින් A, v, d සහ m ඇසුරෙන් N ප්‍රකාශ කරන්න.
- (iii) තවු දෙක ම මත සංඝට්ටනය වන වායු අණු නිසා ජනනය වන මුළු සිරස් බලය (F_c ලෙස ගනිමු) සඳහා ප්‍රකාශනයක් A, v, d සහ θ ඇසුරෙන් ලබා ගන්න.
- (iv) $\theta = 10^\circ, A = 25 \text{ m}^2$ සහ $d = 1.2 \text{ kg m}^{-3}$ නම් F_c හි අගය v මගින් ලබා ගන්න.
 ($\theta = 10^\circ$ සඳහා $\sin \theta = 0.2$ සහ $\cos \theta = 1$ ලෙස ගන්න.)

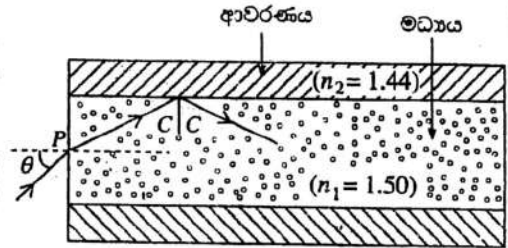
(c) (i) තවුවේ හැඩය නිසා ඉවත් යානයට සාපේක්ෂව තවු වට යන්තම් උඩින් සහ තවු වට යන්තම් පහළින් වායු ප්‍රවාහයන්ගේ සාමාන්‍ය වේග පිළිවෙලින් $\frac{7v}{6}$ සහ $\frac{5v}{6}$ වන බව උපකල්පනය කරන්න. තවු වට යන්තම් උඩින් ඇති පීඩනය P_1 ද තවු වට යන්තම් පහළින් ඇති පීඩනය P_2 ද ලෙස හෙත [(3) රූපය] බ'නුලී ආවරණය නිසා තවුවේ දෙපස පීඩන අන්තරය $(P_2 - P_1) = \frac{2}{5} v^2$ ලෙස ලිවිය හැකි බව පෙන්වන්න.

(ii) එක් තවු වක සඵල පෘෂ්ඨික වර්ගඵලය 120 m^2 නම් ඉහත පීඩන අන්තරය නිසා තවු දෙක ම මත ඇති වන මුළු සිරස් බලය (F_b ලෙස ගනිමු) v ඇසුරෙන් සොයන්න. ($\cos 10^\circ = 1$ ලෙස උපකල්පනය කරන්න.)

- (d) ඉවත් යානයේ ස්කන්ධය $4.32 \times 10^4 \text{ kg}$ නම් ඉවත් යානය ඉවත්ගත වීමට අවශ්‍ය අවම වේගය ගණනය කරන්න.
- (e) ධාවන පථය මත දී ඉවත් යානයට ලබා ගත හැකි උාරිම ත්වරණය 0.9 m s^{-2} කි. ඉවත් යානය ඒකාකාරී ලෙස ත්වරණය වන බව උපකල්පනය කර ඉවත් යානය ඉවත්ගත කිරීම සඳහා කිසිය යුතු ඉවත් පථයේ අවම දිග ගණනය කරන්න.
- (f) ඉවත් නියමුවෝ, හැකි සෑම විට ම, සුළු හමන දිශාවට පිරුද්ධ දිශාවට ත්වරණය කිරීම මගින් ඉවත් යානා ඉවත්ගත කරති. මෙයට හේතුව පැහැදිලි කරන්න.

6. නවීන ලෝකයේ විදුලි සංදේශ සහ වෛද්‍ය විද්‍යා වැනි බොහෝ ක්ෂේත්‍රවල ප්‍රකාශ තන්තු භාවිත කරයි. 'පියවර-දර්ශක' තන්තුවක් ලෙසින් හැඳින්වෙන ප්‍රකාශ තන්තුවක හරස්කඩක් (1) රූපයේ පෙන්වා ඇත.

මධ්‍යය ලෙසින් හැඳින්වෙන තන්තුවේ අභ්‍යන්තර කොටස වර්තන අංකය 1.50 වන පාරදෘශ්‍ය ද්‍රව්‍යයකින් සාදා ඇති අතර ආවරණය ලෙසින් හැඳින්වෙන තන්තුවේ බාහිර ස්තරය වර්තන අංකය 1.44 වන වෙනත් පාරදෘශ්‍ය ද්‍රව්‍යයකින් සාදා ඇත.



(1) රූපය

(a) (1) රූපයේ පෙන්වා ඇති ආකාරයට වාතයේ ගමන් ගන්නා ඒකවර්ණ ආලෝක කිරණයක් θ ඵනත කෝණයක් සහිතව තන්තුවේ එක් කෙළවරකට ඇතුළු වී මධ්‍යයට වර්තනය වේ. ඉන්පසු මධ්‍ය - ආවරණ අතුරු මුහුණතට, කිරණය පතනය වන්නේ එම අතුරු මුහුණතට අනුරූප C අවධි කෝණයෙනි. ($\sin 16^\circ = 0.28$; $\sin 25^\circ = 0.42$; $\sin 74^\circ = 0.96$)

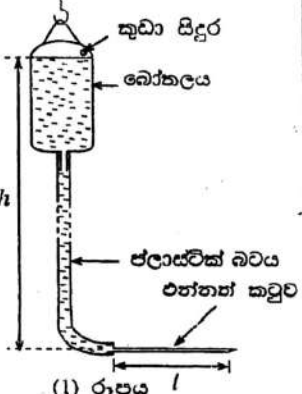
- (i) C හි අගය ගණනය කරන්න.
- (ii) එනගින් θ හි අගය ගණනය කරන්න.
- (iii) මධ්‍ය-ආවරණ අතුරු මුහුණතෙන් පූර්ණ අභ්‍යන්තර පරාවර්තනයට බදුන් වී තන්තුව ඔස්සේ කිරණය සම්ප්‍රේෂණය වීම සඳහා θ ට නිශ්චය යුතු අගය පරාසය සොයන්න.
- (iv) විදුලි සංදේශ කටයුතුවල දී මෙවැනි තන්තු භාවිත කිරීමේ වැදගත් වාසියක් ලියා දක්වන්න.
- (v) (1) පරාවර්තන ඔත්තේ සංඛ්‍යාවක් සහ
(2) පරාවර්තන ඉරව්වේ සංඛ්‍යාවක් සඳහා තන්තුවේ අනෙක් කෙළවරෙන් නිර්ගත වන කිරණවල ගමන් මාර්ග ඇඳ පෙන්වන්න.
- (vi) පවතින පතන කිරණයක් සමඟ (1) රූපය ඔබගේ පිළිතුරු පත්‍රයට පිටපත් කරගෙන P ලක්ෂ්‍යය මත පතනය වී අනතුරුව මධ්‍ය-ආවරණ අතුරු මුහුණතට වැටෙන තවුන් පූර්ණ අභ්‍යන්තර පරාවර්තනයට බදුන් නොවන පතන කිරණයක සම්පූර්ණ ගමන් මාර්ගය ඇඳ පෙන්වන්න.

(b) 3 km දිගක් සහිත සෘජු ප්‍රකාශ තන්තුවක එක් කෙළවරකට ලම්බකව එය තුළට රතු සහ නිල් කෙටි ආලෝක ස්පන්ද දෙකක් එකවර ම යවනු ලැබේ. අනෙක් කෙළවරෙන් නිර්ගමනය වනවිට රතු සහ නිල් ආලෝක ස්පන්ද අතර කාල පරතරය ගණනය කරන්න. (වාතයේ දී ආලෝකයේ වේගය $3.00 \times 10^8 \text{ m s}^{-1}$ වන අතර නිල් සහ රතු ආලෝකය සඳහා වර්තන අංක පිළිවෙලින් 1.53 හා 1.48 වේ.)

(c) (i) ආලෝක සංඥ වඩාත් කාර්යක්ෂමව සම්ප්‍රේෂණය කිරීම සඳහා තන්තුවේ මැද (අක්ෂය) සිට තන්තුවේ බාහිර පෘෂ්ඨය තෙක් එහි වර්තන අංකය සන්තතිකව සහ ක්‍රමයෙන් අඩුවන ලෙස සමහර ප්‍රකාශ තන්තු සාදා ඇත. මෙවැනි ප්‍රකාශ තන්තුවක් 'වර්ග කළ-දර්ශක' තන්තුවක් ලෙසට හැඳින්වේ. පූර්ණ අභ්‍යන්තර පරාවර්තන දෙකක කාල පරාසයක් තුළ මෙවැනි තන්තුවක් ඔස්සේ සම්ප්‍රේෂණය වන ඒකවර්ණ ආලෝක කිරණයක ගමන් මාර්ගය අඳින්න.

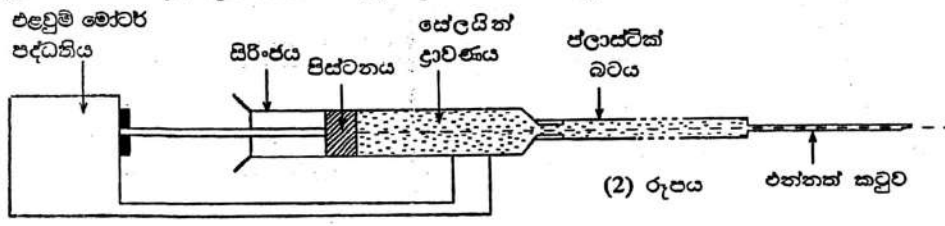
(ii) ඒකවර්ණ වෙනුවට පතන කිරණය නිල් සහ රතු වර්ණවලින් සමන්විත වූයේ නම් ඒවා තන්තුව තුළ එක ම පරාසයක් ඔස්සේ ගමන් කරයි ද? රූප සටහනක් ඇසුරෙන් ඔබගේ පිළිතුර පැහැදිලි කරන්න.

7. ආරෝග්‍යශාලා තුළ අනුගමනය කරන ප්‍රතිකාර ක්‍රියාමාර්ගයන් හි දී රෝගීන්ගේ ශිරා පද්ධතිය තුළට සේලයින්, ප්‍රතිජීවක, ඉන්සියුලින් වැනි තරල දිගු කාල පරාසයක් පුරා නික්ෂේපණය කිරීම බොහෝ විට අවශ්‍ය වේ. මේ සඳහා සාමාන්‍යයෙන් භාවිත කරන ක්‍රමයක් නම් තරලය ගුරුත්වය යටතේ රෝගියාට නික්ෂේපණය වීමට සැලැස්වීමයි. මෙහි දී නික්ෂේපණය කළ යුතු තරලය බෝතලයක අඩංගු කර ඇති අතර සිහින් ලෝහ නළයක ආකාරයේ ඇති එන්නත් කවුළුවක්, ජලාස්ථික් බවයක් මගින් (1) රූපයේ දක්වන ආකාරයට බෝතලයට සම්බන්ධ කර ඇත. එන්නත් කවුළු රෝගියාගේ ශිරාවකට ඇතුළු කිරීම මගින් තරලය නික්ෂේපණය වීමට සලස්වයි.



- (a) (1) රූපයේ පෙන්වා ඇති ඇටවුම භාවිතයෙන් රෝගියාකුට සේලයින් ද්‍රාවණයක් නික්ෂේපණය කළ යුතුව ඇතැයි සිතමු.
- (i) r = එන්නත් කවුළුවේ අභ්‍යන්තර අරය; l = එන්නත් කවුළුවේ දිග; Q = එන්නත් කවුළුව තුළින් සේලයින් ද්‍රාවණයේ පරිමා ප්‍රවාහ ශීඝ්‍රතාව; η = සේලයින් ද්‍රාවණයේ දුස්ස්‍රාවීතාව; ΔP = එන්නත් කවුළුව හරහා පීඩන වෙනස ද නම් කවුළුව නිරස්ථ තබා ඇති විට r, l, Q සහ η ඇසුරෙන් ΔP සඳහා ප්‍රකාශනයක් ලියන්න.
 - (ii) $r = 2 \times 10^{-4} \text{ m}$ සහ $l = 3 \times 10^{-2} \text{ m}$ වන එන්නත් කවුළුවක් භාවිත කළ විට, රෝගියාට ඇතුළු කිරීමට පෙර එය තුළින් ගලන පරිමා ප්‍රවාහ ශීඝ්‍රතාව $Q = 1.5 \times 10^{-7} \text{ m}^3 \text{ s}^{-1}$ වේ. මෙම තත්ත්ව යටතේ දී (1) රූපයේ දක්වා ඇති h උස ගණනය කරන්න. ඔබට පහත දැක්වෙන දත්ත ද සපයා ඇත.
සේලයින් ද්‍රාවණයේ ඝනත්වය = $1.2 \times 10^3 \text{ kg m}^{-3}$; $\eta = 2 \times 10^{-3} \text{ Pa s}$; $\pi = 3.0$ ලෙස ගන්න.
 - (iii) රෝගියාගේ ශිරාවක රුධිර පීඩනය, වායුගෝලීය පීඩනයට වඩා $3 \times 10^3 \text{ N m}^{-2}$ ප්‍රමාණයකින් වැඩි ස්ථානයකට එන්නත් කවුළු ඇතුළු කළ විට එන්නත් කවුළු තුළින් ගලන ආරම්භක පරිමා ප්‍රවාහ ශීඝ්‍රතාව ඉහත (a) (ii) හි දෙන ලද අගයේ ම පවත්වා ගැනීමට උවමනා නම් h උස කොපමණ ප්‍රමාණයකින් වැඩි කළ යුතු ද?
 - (iv) සේලයින් බෝතලයේ දිග 0.2 m නම් සම්පූර්ණයෙන් පිරී ඇති සේලයින් බෝතලයක් සම්පූර්ණයෙන් ම වාගේ හිස් වන අවස්ථාව වන විට එන්නත් කවුළු තුළින් ගලන පරිමා ප්‍රවාහ ශීඝ්‍රතාව කොපමණ ප්‍රමාණයකින් වෙනස් වේ ද?
 - (v) එනගින් එන්නත් කවුළු තුළින් ගලන පරිමා ප්‍රවාහ ශීඝ්‍රතාවයේ සාමාන්‍ය අගය සොයන්න.
 - (vi) සේලයින් බෝතලයක සේලයින් ද්‍රාවණය $1.104 \times 10^{-3} \text{ m}^3$ අඩංගු වේ නම් ඉහත (a) (v) හි ලබා ගත් ප්‍රතිඵලය භාවිත කොට සේලයින් බෝතලයක් සම්පූර්ණයෙන්ම රෝගියාට නික්ෂේපණය කිරීම සඳහා ගතවන කාලය සොයන්න.

(b) නියත නික්ෂේපණ ශීඝ්‍රතාවයක් පවත්වා ගැනීම කීරණාත්මක වනවිට ගුරුත්වය යටතේ නික්ෂේපණය ඉතා හොඳ ක්‍රමයක් නොවේ. මෙම අවස්ථාවේ දී නික්ෂේපණ යන්ත්‍රයක් භාවිත කිරීම වඩා යෝග්‍ය වේ. එවැනි නික්ෂේපණ යන්ත්‍රයක අදාළ කොටසෙහි දළ රූප සටහනක් (2) රූපයේ පෙන්වා ඇත.

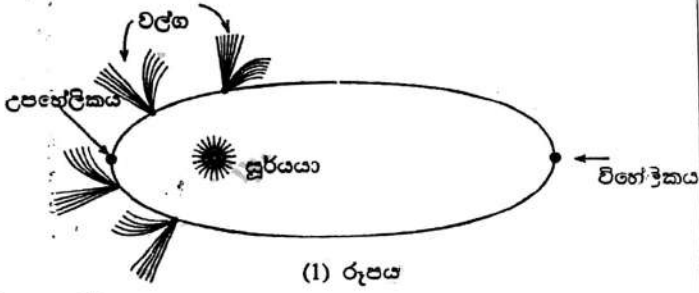


මෙහි දී සිරි-ජයකට තරලය පුරවා එම තරලය පාලනය කළ හැකි මෝටර් පද්ධතියක් මගින් ඉතා සෙමින් වලනය කළ හැකි පිස්ටනයක් භාවිතයෙන් තෙරපනු ලැබේ. ඉහත (a) (ii) හි විස්තර කරන ලද එන්නත් කටුව රූපයේ පෙන්වා ඇති පරිදි මෙම යන්ත්‍රයට කිරස්ව සම්බන්ධ කර ඇතැයි සලකන්න. ඉහත (a) (iii) හි විස්තර කරන පරිදි රෝගියාට $Q = 1.5 \times 10^{-7} \text{ m}^3 \text{ s}^{-1}$ ශීඝ්‍රතාවයෙන් ම සේලයින් ද්‍රාවණය නික්ෂේපණය කිරීමට යන්ත්‍රය භාවිත කරනු ලැබේ.

- (i) සිරි-ජයේ අභ්‍යන්තර හරස්කඩ වර්ගඵලය $1.2 \times 10^{-3} \text{ m}^2$ නම් පිස්ටනය කවර වේගයකින් වලනය කළ යුතු ද?
- (ii) සිරි-ජය හරහා සහ ජලාස්ථිත් බවය [(2) රූපය බලන්න.] හරහා සේලයින් ද්‍රාවණයේ පීඩන අන්තර තොසැලකිය හැකි කරම් කුඩා යැයි උපකල්පනය කර පිස්ටනය මගින් සේලයින් ද්‍රාවණය මත ඇති කරන නියත බලය සොයන්න.
- (iii) එළවුම් මෝටර් පද්ධතිය මගින් පිස්ටනය මත කාර්ය කිරීමේ ශීඝ්‍රතාව ගණනය කරන්න.

8. පහත ඡේදය කියවා අසා ඇති ප්‍රශ්නවලට පිළිතුරු සපයන්න.

වල්ගා තරු සාමාන්‍යයෙන් සූර්යයා වටා අධික ලෙස ඉලිප්සාකාර වූ කක්ෂවල ගමන් කරන කුඩා ආකාශ වස්තූන් වේ. [(1) රූපය බලන්න.] සමහර කක්ෂ ග්‍රහලෝක පද්ධතියෙන් ඔබ්බට දළ වශයෙන් ආලෝක වර්ෂයක් පමණ දුරට පැතිරේ. වල්ගා තරුවක් මත ක්‍රියාත්මක වන ප්‍රධාන බලය වනුයේ සූර්යයාට ඇති ගුරුත්වාකර්ෂණ ආකර්ෂණය යි. වල්ගා තරුවක ප්‍රධාන සංරචක වනුයේ න්‍යෂ්ටිය, කෝමාව සහ වල්ග වේ. වල්ගා තරුවේ ඝන වස්තුව වන න්‍යෂ්ටියේ ව්‍යාප්තිය 50 km ට වඩා අඩු වන අතර කෝමාව සූර්යයාට වඩා විශාල විය හැක. වල්ග කිලෝමීටර මිලියන 150 පමණ දුරට පැතිරීය හැක.



වල්ගා තරු ප්‍රධාන වශයෙන් සෑදී ඇත්තේ මිදුණු කාබන්ඩයොක්සයිඩ්, මිනේන්, ජලය (අයිස්) සමග පවතින දුටිලි අංශු, සහ නොයෙකුත් බිනිජ වර්ගවලිනි. වල්ගා තරුව අභ්‍යන්තර ග්‍රහලෝක දෙසට ළඟා වී සූර්යයාට වඩා ආසන්න වෙමින් ගමන් කරන විට සූර්යයාගෙන් ලැබෙන විකිරණවල පීඩනය නිසා එහි පිටත ස්කරය වාෂ්පීකරණයට භාජනය වේ. එයින් නිකුත්වන දුටිලි සහ වායුන්වලින් සමන්විත, න්‍යෂ්ටිය වටා පැතිරුණු වල්ගා තරුවේ වායුගෝලය කෝමාව ලෙස හැඳින්වේ. කෝමාව මත ඇති වන සූර්ය විකිරණ පීඩනය සහ සූර්ය සුළඟ නිසා අයනවලින් සමන්විත නිල්පැහැයෙන් යුත් වල්ගයක් සෑදෙන අතර සූර්ය සුළඟ, වායුව මත ඉතා ප්‍රබලව බලපාන බැවින් අයනවලින් සෑදුණු එම වල්ගය සෘජුව සහ සූර්යයාගෙන් ඉවතට එල්ල වී පවතී. වල්ගා තරුවෙන් නිදහස් වූ දුටිලි අංශුන් මගින් වල්ගා තරුවට පිටුපසින් සුළු වශයෙන් චක්‍ර වූ සුදු පැහැයෙන් යුත් තවත් වල්ගයක් සෑදේ.

වල්ගා තරුවක වේගය සූර්යයාට වඩාත් ම දුරින් පිහිටි ලක්ෂ්‍යයේ දී (විහේලිකය) ලබා ගන්නා එහි අවම අගය සහ සූර්යයාට වඩාත් ම ආසන්නයේ පිහිටි ලක්ෂ්‍යයේ දී (උපකේලිකය) ලබා ගන්නා එහි උපරිම අගය අතර වෙනස වේ. උදාහරණයක් ලෙස ස්කන්ධය $2.0 \times 10^{14} \text{ kg}$ වූ හේලියේ වල්ගා තරුව සූර්යයාගේ සිට $5.0 \times 10^{12} \text{ m}$ දුරින් පිහිටි එහි විහේලිකයෙහි දී එහි අවම වේගය වන 12.0 km s^{-1} ලබා ගනී.

බාහිර අවකාශයෙන් වායුගෝලයට ඇතුළුවන සුන්බුන් කැබලි උල්කාහ (meteoroids) ලෙස හැඳින්වේ. බොහෝ උල්කාහ ඒවායේ රේඛීය සහ ග්‍රමණ වාලක ශක්තීන් දෙක ම වැය කරමින් ඝර්ෂණය නිසා ජනනය වන තාපය හේතු කොට ගෙන වායුගෝලය තුළ දී ආලෝකය නිකුත් කරමින් දැවී යයි. ඒවා උල්කා (meteors) ලෙස හඳුන්වයි. වල්ගා තරුවක ගමන් මගෙහි අත හැරී ගිය සුන්බුන් කැබලි හරහා පෘථිවි වායුගෝලය ගමන් කරන විට උල්කා වර්ෂා නිරීක්ෂණය කිරීමට හැකි වේ. සමහර උල්කාහ පෘථිවි පෘෂ්ඨය මතට පතිත වන අතර ඒවා උල්කාපාත (meteorites) ලෙස හැඳින්වේ.

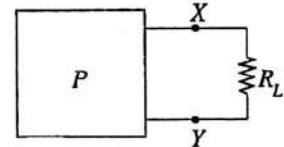
උල්කාහයක් ඉක්මනින් එහි ද්‍රවාංකය කරා ළඟා වන විට එය තාපදීප්ත බවට පත් වේ. අවට ඇති පරමාණු අයනීකරණය වී ඉලෙක්ට්‍රෝන සමග ඉක්මනින් ප්‍රතිසංයෝජනය වී ඇති කරන ආලෝක විමෝචනය හේතුවෙන් උල්කාහය, ගිනි බෝලයක් ලෙස පෙනෙන විශාල ගෝලාකාර වාත ස්කන්ධයක් ඇති කරයි. සමහර ගිනි බෝල ලෙස පෙනෙන උල්කාහ පුපුරා ගොස් උල්කා කොටස් කිහිපයක් බවට පත් විය හැක. මෑතකදී රුසියාවේ සිදු වූවාක් මෙන් පිපිරීම දැක තත්පර කිහිපයකට පසුව පොළොව දෙදරවන තරමේ ස්වනික ගිගුරුම් ඇතිකරමින් උල්කාහයේ කැබලිවලින් නිපදවෙන ප්‍රකම්පන තරංග (shock waves) පොළොව මතට ළඟා විය හැක.

- (a) වල්ගා තරුවක ප්‍රධාන සංරචක මොනවා ද?
- (b) වල්ගා තරුවක වල්ග ආකාර දෙක අතර ප්‍රධාන වෙනස්කම් තුනක් සඳහන් කරන්න.
- (c) සෝලීගේ වල්ගා තරුව එහි විශේෂිතයෙහි ඇති විට එය මත ක්‍රියාකරන ගුරුත්වාකර්ෂණ බලය ගණනය කරන්න. (සූර්යයාගේ ස්කන්ධය $= 2 \times 10^{30}$ kg, $G = 6.7 \times 10^{-11}$ N m² kg⁻²)
- (d) සෝලීගේ වල්ගා තරුව සූර්යයාගේ සිට 8.0×10^{10} m දුරින් පිහිටි එහි උපභේලිකයෙහි පිහිටන විට එහි වේගය සොයන්න. (සටහන: විශේෂිතය සහ උපභේලිකය යන පිහිටුම්වල දී වල්ගා තරුවේ ප්‍රවේගය අරීය දිශාවට ලම්බක වේ. ස්කන්ධය නොවෙනස්ව පවතී යැයි උපකල්පනය කරන්න.)
- (e) පෘථිවි වායුගෝලය වල්ගා තරුවක කක්ෂයක් හරහා යන විට උල්කා වර්ෂාවක් නිපදවෙන්නේ මන් ද?
- (f) උල්කා සහ උල්කාපාක අතර වෙනස කුමක් ද?
- (g) උල්කාක දහනය වීමේ දී තාප ශක්තිය බවට පරිවර්තනය වන්නේ කුමන ශක්තීන් ද?
- (h) උල්කාහයක් හිනි බෝලයක් සේ දිස්වීමට ආලෝකය ජනනය කරන යාන්ත්‍රණය කුමක් ද?
- (i) සිරස්ව 200 m s^{-1} වේගයකින් පහළට වැටෙන උල්කාහයක් කැබලි දෙකකට පුපුරා යයි. උල්කාහයේ ස්කන්ධයෙන් $\frac{3}{5}$ ක ස්කන්ධයක් ඇති එක් කැබැල්ලක් නිරන්තරව 600 m s^{-1} වේගයකින් ගමන් කරයි නම් අනෙක් කැබැල්ලේ වේගය සොයන්න.
- (j) ප්‍රකාශිත තරංගයක් ඇති විට සඳහා උල්කාහ කැබැල්ලක වේගය සපුරාලිය යුතු තත්ත්වය කුමක් ද?
- (k) ප්‍රකාශිත තරංගයක් සාදන අයුරු රූපයටහනක් භාවිතයෙන් පැහැදිලි කරන්න.

9. (A) කොටසට හෝ (B) කොටසට හෝ පමණක් පිළිතුරු සපයන්න.

(A) (1) රූපයේ පෙන්වා ඇති P පෙට්ටිය තුළ කෝෂ සහ ප්‍රතිරෝධවලින් පමණක් සමන්විත සංකීර්ණ විද්‍යුත් පරිපථයක් අඩංගු වේ. (2) රූපයේ පෙන්වා ඇති පරිදි වි.ගා.බ. E වූ තනි කෝෂයක සහ R₀ තනි ප්‍රතිරෝධයක ශ්‍රේණිගත සංයුක්තයක් මගින් පෙට්ටිය තුළ ඇති සම්පූර්ණ පරිපථය ම ප්‍රතිස්ථාපනය කළ හැකි බව උපකල්පනය කරන්න.

(a) R_L බාහිර ප්‍රතිරෝධයක් (2) රූපයේ XY අග්‍ර හරහා සම්බන්ධ කළ විට P හි පරිපථයෙන් ඇදගන්නා I ධාරාව සඳහා ප්‍රකාශනයක් E, R₀ සහ R_L ඇසුරෙන් ලියන්න.



(1) රූපය

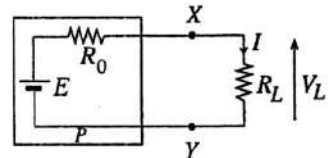
ඉහත සඳහන් කළ E සහ R₀ අගයයන් පහත (b) සහ (c) යටතේ දක්වා ඇති ක්‍රම දෙක භාවිතයෙන් පරීක්ෂණාත්මකව සෙවිය හැක.

(b) R_L ප්‍රතිරෝධය ඉවත් කර අභ්‍යන්තර ප්‍රතිරෝධය R₀ ට වඩා ඉතා විශාල අගයක් ඇති වෝල්ටීම්මීටරයක් මගින් XY අග්‍ර හරහා වෝල්ටීයතාව මනිනු ලැබේ. එවිට වෝල්ටීම්මීටර කියවීම V₀ යැයි සිතමු.

ඉන්පසු කුඩා කාලයක් සඳහා XY අග්‍ර හරහා වූ ඉහත නොගිණිය හැකි අභ්‍යන්තර ප්‍රතිරෝධයක් සහිත ඇම්මීටරයක් මගින් පරිපථයේ ධාරාව මනිනු ලැබේ. එවිට ඇම්මීටරයේ කියවීම I_s යැයි සිතමු.

ඉහත ලබා ගත් ප්‍රතිඵල භාවිත කොට E සහ R₀ සඳහා ප්‍රකාශන ලියන්න.

(c) දෙවන ක්‍රමය භාවිත කොට E සහ R₀ අගයයන් සොයා ගැනීම පිණිස (2) රූපයේ ඇති R_L සඳහා, වෙනස් අගයයන් දෙකක් ඇති ප්‍රතිරෝධක භාවිත කොට, R_L අගයයන් හා සසඳන විට අතිවිශාල අගයකින් යුත් අභ්‍යන්තර ප්‍රතිරෝධයක් සහිත වෝල්ටීම්මීටරයකින් R_L හරහා V_L වෝල්ටීයතාවයන් මනිනු ලැබේ. එවැනි මිනුමකින් ලබා ගත් අගයන් කට්ටලයක් පහත දී ඇත.



(2) රූපය

$R_L = 1 \text{ k}\Omega$ වූ විට $V_L = 75 \text{ mV}$

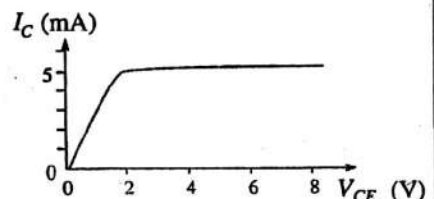
$R_L = 100 \text{ k}\Omega$ වූ විට $V_L = 5 \text{ V}$

ඉහත මිනුම් භාවිත කොට E සහ R₀ ගණනය කරන්න.

(d) (i) සාමාන්‍යයෙන් R₀ හි අගය R_L හා සසඳන විට අතිවිශාල නම් පරිපථයේ I ධාරාව බොහෝ සෙයින් R_L ගෙන් ස්ථායත්ත වන බවත් එය රඳු පවතින්නේ E සහ R₀ මත පමණක් බවත් පෙන්වන්න. ඉහත (a) කොටස යටතේ I සඳහා ලබා ගත් ප්‍රකාශනය මඟට මේ සඳහා භාවිත කළ හැක. (මේ තත්ත්වය යටතේ E සහ R₀ සහිත P හි ඇති පරිපථය නියත ධාරා ප්‍රභවයක් ලෙස සැලකේ.)

(ii) ඉහත (d) (i) හි සඳහන් කළ තත්ත්වය යටතේ R_L හරහා ඇති වන වෝල්ටීයතාව V_L නම්, V_L සමග I ධාරාව වෙනස් වන්නේ කෙසේ දැයි පෙන්වීමට දළ සටහනක් අඳින්න. (x අක්ෂය සඳහා V_L භාවිත කරන්න.)

(e) පොදු විමෝචක විනායයේ සම්බන්ධ කර ඇති npn ව්‍යාන්සිස්ථරයක ප්‍රතිදාන I - V ලාක්ෂණිකයේ [(3) රූපය බලන්න] කොටසක් මඟ ඉහත (d) (ii) හි අඳින ලද දළ සටහනට බොහෝ සෙයින් සමාන වේ. මෙයින් මඟ ව්‍යාන්සිස්ථරයේ සංග්‍රාහකය සහ විමෝචකය අතර ප්‍රතිරෝධයෙහි විශාලත්වය පිළිබඳ ව කුමක් අනුමාන කළ හැකි ද? මඟේ පිළිතුර කෙටියෙන් පැහැදිලි කරන්න.



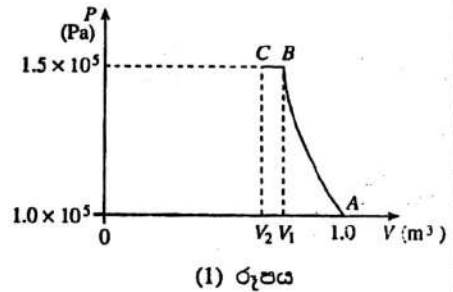
(3) රූපය

(B) අවකර පරිණාමකයක් 240 V ac, 50 Hz ජව මූලික වෝල්ටීයතාවයකින්, 18 V (උච්ච අගය) ප්‍රතිදන වෝල්ටීයතාවක් නිපදවයි.

- (a) ඉහත අවකර පරිණාමකයෙහි අදාළ අග්‍රවලට සම්බන්ධ කර ඇති සේතු සෘජුකාරකයක පරිපථ සටහනක් අඳින්න.
- (b) ප්‍රතිදන හරහා සම්බන්ධ කර ඇති ප්‍රතිරෝධකයක් හරහා පහත සඳහන් ප්‍රතිදන අවස්ථාවල දී ඇතිවන වෝල්ටීයතා තරංග ආකාර ඇඳ දක්වන්න. ප්‍රස්තාරයන්හි අක්ෂ සලකුණු කර උච්ච වෝල්ටීයතා අගයයන් (වෝල්ටීවෝල්ට්) පැහැදිලි ව ලකුණු කරන්න. තරංග ආකාරයන්ගේ ආවර්ත කාල ද (තත්පරවලින්) ලකුණු කරන්න. සෘජුකාරකයේ භාවිතවන සිලිකන් සෘජුකාරක දියෝඩවලට 1 V පෙර නැඹුරු වෝල්ටීයතාවයක් ඇති බව උපකල්පනය කරන්න.
 - (i) පරිණාමක ප්‍රතිදනය
 - (ii) සෘජුකාරක ප්‍රතිදනය (සුමටන ධාරිත්‍රකය නොමැතිව)
 - (iii) සුමටන ධාරිත්‍රකය සමග සෘජුකාරක ප්‍රතිදනය. මඛ විසින් (a) කොටස යටතේ අඳින ලද පරිපථයේ ධාරිත්‍රක සම්බන්ධය පෙන්වන්න.
 - (iv) වෝල්ටීයතාව යාමනය කිරීම සඳහා සෙන්ර් දියෝඩයක් සම්බන්ධ කිරීමෙන් පසු ප්‍රතිදනය. මඛ විසින් (a) කොටස යටතේ අඳින ලද පරිපථයෙහි සෙන්ර් දියෝඩ සම්බන්ධය පෙන්වන්න.
- (c) (i) සුමටන ධාරිත්‍රකය සඳහා කුඩා ධාරිතා අගයක් වෙනුවට විශාල අගයක් භාවිත කිරීමේ වාසිය කුමක් ද?
 (ii) සුමටන ධාරිත්‍රකය ඇති විට දියෝඩයක් හරහා ඇති විභව පරිවර්තන පසු නැඹුරු වෝල්ටීයතාව කුමක් ද?
- (d) ඉහත (b) (iv) හි භාවිත කරන ලද සෙන්ර් දියෝඩය සඳහා පහත සඳහන් පිරිවිතර ඇත්නම්, සෙන්ර් දියෝඩය ආරක්ෂා කිරීම සඳහා භාවිත කළ යුතු ආරක්ෂක ප්‍රතිරෝධකයෙහි අගය ගණනය කරන්න.
 සෙන්ර් වෝල්ටීයතාව = 10 V
 සෙන්ර් දියෝඩය හරහා ගැවිය හැකි ධාරාවෙහි උපරිම අගය = 200 mA
 (මඛගේ ගණනය කිරීම් සඳහා අදාළ උච්ච අගයයන් භාවිත කරන්න.)
- (e) ශිෂ්‍යයෙක් සුමටන ධාරිත්‍රකය සහිත (එහෙත් සෙන්ර් යාමනයක් නොමැති) සෘජුකාරක පරිපථය පොදු විමෝචක වර්ධකයක් ක්‍රියාකරවීමට අවශ්‍ය සරල ධාරා (dc) ජව සැපයුමක් ලෙස භාවිත කිරීමට තීරණය කළේ ය.
 - (i) පොදු විමෝචක වර්ධකයක පරිපථ රූප සටහන අඳින්න.
 - (ii) ජව සැපයුමේ වෝල්ටීයතා විචලනය (d.c. වෝල්ටීයතාවය) නිසා වර්ධකයෙහි පාදමේ සහ ප්‍රතිදනයෙහි වෝල්ටීයතාවයන් හි මඛ බලාපොරොත්තු වන වෙනස්වීම් සඳහන් කරන්න.

10. (A) කොටසට හෝ (B) කොටසට හෝ පමණක් පිළිතුරු සපයන්න.

(A) පරිපූර්ණ වායු සමීකරණයෙන් පවත් ගෙන පරිපූර්ණ වායුවක ඝනත්වය (ρ) සඳහා ප්‍රකාශනයක් පිටතය (P), මවුලික ස්කන්ධය (M), නිරපේක්ෂ උෂ්ණත්වය (T) සහ සාර්වත්‍ර වායු නියතය (R) ඇසුරෙන් ව්‍යුත්පන්න කරන්න.
 වායුගෝලීය පීඩනයේ (1.0×10^5 Pa) සහ උෂ්ණත්වය 27°C හි පවතින වාතය 1.0 m^3 පරිමාවක් (P - V වක්‍රයේ A ලක්ෂ්‍යය) (1) රූපයේ පෙන්වා ඇති පරිදි පීඩනය 1.5×10^5 Pa සහ උෂ්ණත්වය 64.5°C (P - V වක්‍රයේ B ලක්ෂ්‍යය) කරා ස්ථිරතාපී ලෙස සම්පීඩනය කරනු ලැබේ. ඊට පසු 1.5×10^5 Pa නියත පීඩනයක් යටතේ වාතයේ ආරම්භක උෂ්ණත්වය වන 27°C කරා එම වාතය සිසිල් කරනු ලැබේ. (P - V වක්‍රයේ C ලක්ෂ්‍යය)

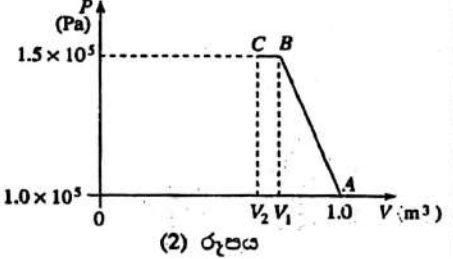


(1) රූපය

[වාතය පරිපූර්ණ වායුවක් ලෙස හැසිරෙන්නේ යැයි උපකල්පනය කරන්න;

වාතයේ මවුලික ස්කන්ධය = $3.0 \times 10^{-2} \text{ kg mol}^{-1}$; $R = 8.31 \text{ JK}^{-1} \text{ mol}^{-1}$; $\frac{1}{8.31} = 0.12$ ලෙස ගන්න.]

- (a) (i) A ලක්ෂ්‍යයේ දී, (ii) B ලක්ෂ්‍යයේ දී, (iii) C ලක්ෂ්‍යයේ දී වාතයේ ඝනත්ව ගණනය කරන්න.
- (b) (i) B ලක්ෂ්‍යයේ දී වාතයේ පරිමාව, V_1 (ii) C ලක්ෂ්‍යයේ දී වාතයේ පරිමාව V_2 , ගණනය කරන්න. (මඛගේ පිළිතුරු ආයතන දෙවන දශම ස්ථානයට දෙන්න.)
- (c) ස්ථිරතාපී වක්‍රය රේඛීය ලෙස උපකල්පනය කරමින් ඉහත P - V රූප සටහන, (2) රූපයේ පෙන්වා ඇති ආකාරයට නැවත ඇඳිය හැක. A සිට B දක්වා වාතය සම්පීඩනය වන ක්‍රියාවලියේ දී පහත දෑ ගණනය කරන්න.
 - (i) වාතය මගින් කරන ලද කාර්යය
 - (ii) අභ්‍යන්තර ශක්තියේ ඇති වූ වෙනස
- (d) B සිට C දක්වා වාතය සම්පීඩනය වන ක්‍රියාවලියේ දී පහත දෑ ගණනය කරන්න.
 - (i) වාතය මගින් කරන ලද කාර්යය
 - (ii) වාතයෙන් ඉවත් වූ තාප ප්‍රමාණය



(2) රූපය

(e) සමහර රථවාහන එන්ජින් තුළ (1) රූපයේ පෙන්වා ඇති ක්‍රියාවලියට සමාන ක්‍රියාවලියක් සිදු වේ. රථවාහන එන්ජිමක ක්ෂමතා ප්‍රතිදානය, දී ඇති ඉන්ධන ස්කන්ධයක් සමග මිශ්‍ර වීම සඳහා එන්ජිමට ඇදගත හැකි වාතයේ ස්කන්ධයට අනුලෝමව සමානුපාතික වේ. එන්ජිමට වාතය ඇතුළු කිරීමට පෙර ඒකක පරිමාවකට, වඩා වැඩි වාත ස්කන්ධයක් ලබා දෙන පරිදි වාතය සම්පීඩනය කරන 'ටර්බෝ ආරෝපකය' (turbo charger) නමින් හැඳින්වෙන ඒකකයක් මෙම රථවල ඇත. මෙම ශීඝ්‍ර, ස්ඵරිතාපී සම්පීඩනය වාතය රත් කරයි. [(1) රූපයේ පෙන්වා ඇති A සිට B දක්වා වූ ක්‍රියාවලිය.] එය තවදුරටත් සම්පීඩනය කිරීමට වාතය 'අතුරු සිසිල්කරුව' (intercooler) නමින් හැඳින්වෙන ඒකකයක් හරහා ඊළඟට යවන අතර එහි දී නියත පීඩනයක් යටතේ වාතයෙන් තාපය ඉවත් වේ. [(1) රූපයේ පෙන්වා ඇති B සිට C දක්වා වූ ක්‍රියාවලිය.] ඉන්පසු එන්ජිම තුළට වාතය ඇදගනු ලැබේ.

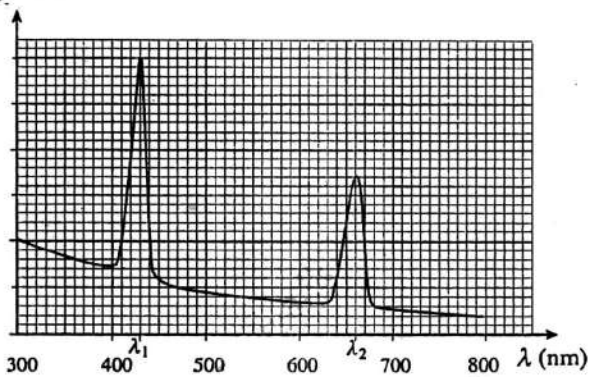
27 °C දී, 1.0×10^5 Pa පීඩනයක ඇති වාතය ලබා ගන්නා එන්ජිමක ක්ෂමතා ප්‍රතිදානය සමග සංයන්දනය කිරීමේ දී 'ටර්බෝ ආරෝපකය' සහ 'අතුරු සිසිල්කරුව' භාවිත කරන්නා වූ එන්ජිමක ක්ෂමතා ප්‍රතිදානය කුමන ප්‍රතිශතයකින් වැඩි වේ ද? [ඉඟි: (a) (i) සහ (a) (iii) හි ලබා ගත් ප්‍රතිඵල භාවිත කරන්න.]

(B) තරංග ආයාමය λ වන විකිරණ මගින් ප්‍රකාශ සංවේදී පෘෂ්ඨයක් ප්‍රදීපනය කරනු ලැබේ.

(a) (i) විමෝචනය වන ප්‍රකාශ ඉලෙක්ට්‍රෝනවල උපරිම වාලක ශක්තිය (K_{max}), λ සහ ප්‍රකාශ සංවේදී ද්‍රව්‍යයේ කාර්යක්‍රීයය (ϕ) ට සම්බන්ධ වන අයින්ස්ටයින්ගේ ප්‍රකාශ විද්‍යුත් සමීකරණය ලියා දක්වන්න.

(ii) ප්‍රකාශ සංවේදී ද්‍රව්‍යයේ දේහලිය තරංග ආයාමය (λ_0) ඇසුරෙන් ϕ සඳහා ප්‍රකාශනයක් ලබා ගන්න.

නිව්‍යතාවය



(1) රූපය

(b) සූර්ය ශක්තිය කෙලින් ම රසායනික ශක්තිය බවට පරිවර්තනය කිරීමට ශාකවලට හැකි ය. මෙම ක්‍රියාවලිය ප්‍රභාසංශ්ලේෂණය නමින් හැඳින්වේ. ආලෝකය අවශෝෂණය කර ගැනීම සඳහා ශාක හරිතප්‍රද නමින් හැඳින්වෙන වර්ණක භාවිත කරයි. සාමාන්‍ය හරිතප්‍රද අණුවක් සූර්යාලෝකයෙන් තරංග ආයාම දෙකක් (එකක් නිල් වර්ණයේ සහ අනෙක රතු වර්ණයේ) අවශෝෂණය කර ගනී. හරිතප්‍රද මගින් අවශෝෂණය කර ගන්නා තරංග ආයාම (1) රූපයේ පෙන්වා ඇත.

- (i) හරිතප්‍රද අණුවක් මගින් අවශෝෂණය කරන්නා වූ තරංග ආයාම දෙක λ_1 සහ λ_2 නිර්ණය කරන්න.
- (ii) නිල් වර්ණයට අනුරූප වන්නේ කුමන තරංග ආයාමය ද?

(c) හරිතප්‍රද අණු ඉහත (1) රූපයේ පෙන්වා ඇති තරංග ආයාමවලට අනුරූප පෝටෝන අවශෝෂණය කර ගනිමින් සැකෙබුණු (excited) අවස්ථාවන්ට සංක්‍රමණය වේ. අණු සැකෙබීමට අවශ්‍ය අවම ශක්තිය අණුවේ සැකෙබුම් ශක්තිය (ϕ) ලෙස හැඳින්වේ. ඉහත (a) (ii) හි කාර්ය ක්‍රීයය ϕ සඳහා ලබා ගත් ප්‍රකාශනය මගින් ම මෙම සැකෙබුම් ශක්තිය ඇගයිය හැක. පිළිවෙලින් λ_1 සහ λ_2 අවශෝෂණයන් දෙකට අනුරූපව සිදුවන සැකෙබීමට අදාළ හරිතප්‍රද අණුවේ සැකෙබුම් ශක්තීන් දෙක, ϕ_1 සහ ϕ_2 නිර්ණය කරන්න. ($hc = 1290 \text{ eV nm}$ ලෙස ගන්න.)

- (d) (i) දහවල් කාලයේ දී ශ්‍රී ලංකාවේ පෘථිවි පෘෂ්ඨයේ ඒකක වර්ගඵලයක් මතට පතනය වන සූර්ය විකිරණ ශීඝ්‍රතාවයේ මධ්‍යන්‍ය අගය 1200 W m^{-2} වේ. ඉහත (b) (i) හි නිර්ණය කරන ලද λ_1 තරංග ආයාමයට අනුරූප පෝටෝනවල ශක්තියට අයත් වන්නේ මෙම ශක්ති ශීඝ්‍රතාවයෙන් 0.1% ක් පමණක් යැයි උපකල්පනය කරමින් පෘථිවියේ ඒකක වර්ගඵලයක් මතට පතනය වන λ_1 තරංග ආයාමයට අයත් වන ශක්ති ශීඝ්‍රතාව ගණනය කරන්න.
- (ii) (1) ශාකයක පත්‍රයක් මත ඇති හරිතප්‍රද අණුවල සඵල පෘෂ්ඨික වර්ගඵලය $4.0 \times 10^{-4} \text{ m}^2$ නම් හරිතප්‍රද අණු මත පතනය වන λ_1 තරංග ආයාමයට අයත් වන ශක්ති ශීඝ්‍රතාවය නිර්ණය කරන්න.
(2) ඉහත (ii) (1) හි ශක්ති ශීඝ්‍රතාවයට අනුරූප පෝටෝන ශීඝ්‍රතාවය කොපමණ ද? ($1 \text{ eV} = 1.6 \times 10^{-19} \text{ J}$)
- (iii) හරිතප්‍රද අණු මතට පතනය වන පෝටෝන 10^{14} කට එක් හරිතප්‍රද අණුවක් පමණක් සැකෙබෙයි නම් ඉහත (ii) (2) හි ගණනය කළ පතනය වන පෝටෝන නියා සැකෙබෙන අණු ප්‍රමාණය කොපමණ වේ ද?
- (iv) එක් ග්ලූකෝස් අණුවක් සෑදීම සඳහා මෙවැනි සැකෙබුණු හරිතප්‍රද අණු හයක් අවශ්‍ය නම් එක් ග්ලූකෝස් අණුවක් සෑදීම සඳහා කොපමණ කාලයක් ගත වේ ද?



LOL.Ik
Learn Ordinary Level

විභාග ඉලක්ක පහසුවෙන් ජයගන්න පසුගිය විභාග ප්‍රශ්න පත්‍ර



• Past Papers • Model Papers • Resource Books
for G.C.E O/L and A/L Exams



විභාග ඉලක්ක ජයගන්න
Knowledge Bank



Master Guide

WWW.LOL.LK



Whatsapp contact
+94 71 777 4440

Website
www.lol.lk

 **Order via
WhatsApp**

071 777 4440